

大妻多摩中学校

2017(平成29)年度

# 入学試験問題(第2回)

## 【 社 会 】

時間 40分

2月2日(木)

配布用

「※ 省略」の部分に記載されている写真・地図・表・グラフなどは、著作権上の問題からこの冊子には掲載することができませんので、ご了承ください。

### 【 注意事項 】

1. 問題冊子は18ページまであります。
2. 指示があるまで、この冊子を開いてはいけません。
3. ページが抜けていたり、印刷が見えにくい場合には、手をあげて知らせてください。
4. 答えはすべて、問題の指示にしたがって解答用紙に記入しなさい。

1 次の文章は、日本文化を専門とする著者が、山について書いたものです。よく読んで、下の問いに答えなさい。

①日本は〈…略 A…〉におおわれている。関東平野、濃尾平野といっても、その〈…略 B…〉は海外諸国の平野にはくらべようもない。

だから日本人はむかしから山と深くつき合ってきたはずなのだが、さてつき合いを忘れた歴史は古い。

第一、②日本三景とって日本を代表する風景があるが、それは松島という湾内に島々が浮かぶ風景と、<sup>あま</sup>天の<sup>はしだて</sup>橋立という海上に長くのびた岬、そして（あ）という海中に鳥居をもつ神社である。

みんな海の風景であって、山など完全に無視されている。

一方で③日本アルプスといわれる山々があつて、そのけわしさ、<sup>さんかく</sup>山岳としての美しさがとり上げられているが、これは明治の一時期、風景論、自然論が<sup>さか</sup>盛んになって、日本にだって美しい山岳地帯があると、むしろ（い）に教えられてクローズアップしてきたものだ。教えられてあらためて見直すまで、日本人はとんと山の美しさを忘れていた。

さすが富士山だけは例外で、江戸にだって<sup>いた</sup>至るところに④富士見坂や富士見町があるほどにもてはやされたが、そのほかの名山は、知る人ぞ知るといったていどになり、そればかりか各地の名山は⑤近江富士とか《I》富士とかと、富士に身売りする<sup>しまつ</sup>始末となった。

しかし本来日本人は、もっともっと身近に山と接し、山と生活をともにしていたはずである。

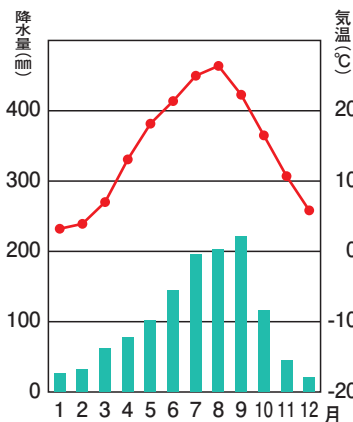
いまはもう俳句でしかいわなくなったが、冬の山を「山が眠る」といった。そういわれると、いかにも冬山は⑥目ざましい新緑に<sup>も</sup>萌えるのでもなく、⑦きらびやかな紅葉にいろどられるわけでもなく、ひそかにじっと眠っているように見える。

その山が春ともなると、「山は笑う」と表現された。山の表情がやわらぎ、あちこちの木々に変化が生まれ、いかにも笑うような豊かな顔色を見せる。

中西 進 著『日本人の忘れもの2』 ウェッジ文庫より

問1. 下線部①について、以下の問いに答えなさい。なお問題の都合上、下線部①の一部分は〈…略…〉としています。

(1) 右の気温と降水量を表すグラフは、関東平野の内陸部に位置する前橋のもので、このグラフが前橋であることを説明した文として正しいものを、次のア～エから1つ選びなさい。



ア. 1年の降水量は2000mmを超え、夏と冬の気温の差が大きいことから、このグラフは前橋である。

イ. 12月から2月の平均気温は0℃以下で、夏と冬の気温の差が大きいことから、このグラフは前橋である。

ウ. 冬は雪や雨の日が多く、夏よりも降水量が多くなることから、このグラフは前橋である。

エ. 夏と冬の気温の差が大きく、冬を中心に1年間の降水量が少ないことから、このグラフは前橋である。

(2) 「濃尾」の読み方をひらがなで答えなさい。

(3) 濃尾平野について述べた文として誤っているものを、次のア～エから1つ選びなさい。

ア. 夏は高温多湿で非常に蒸し暑く、全国でも有数の酷暑地帯として有名である。

イ. 周辺の集落では水害が多く、集落全体を堤防で囲った輪中がつくられてきた。

ウ. 平野全域が中京工業地帯の一部となっている。

エ. 長野県南西部から静岡県北西部にかけて広がる平野である。

- (4) 下線部①によると、関東平野や濃尾平野は「海外諸国の平野にはくらべようもない」となっていますが、どういう意味ですか。日本の地形の特色をふまえて説明しなさい。その際、下線部①の〈…略 A…〉や〈…略 B…〉にどのような語句が入るか考えながら答えること。

問2. 下線部②について、以下の問いに答えなさい。

- (1) 【資料1】中の( C )と( D )は、下線部②のうちの2か所がある都道府県です。このことを参考にして、【資料1】で示されている、ある魚介類の名称をひらがなで答えなさい。

【資料1】ある魚介類の収穫量上位5都道府県(2014年)

順位	都道府県名	収穫量(百t)
1	( C )	1,167
2	( D )	209
3	岡山	168
4	兵庫	77
5	岩手	48

農林水産省「平成26年漁業・養殖業生産統計」より作成

- (2) 【資料2】中の( E )は、下線部②のうちの1つがある都道府県です。( E )で収穫される【資料2】のある農作物に関する地名を、次のア～エから1つ選びなさい。

【資料2】ある農作物の収穫量上位5都道府県(2014年)

順位	都道府県名	収穫量(t)
1	静岡	33,100
2	鹿児島	24,600
3	三重	6,770
4	宮崎	3,870
5	( E )	2,920

矢野 恒太 記念会 編集『日本のすがた2016』より

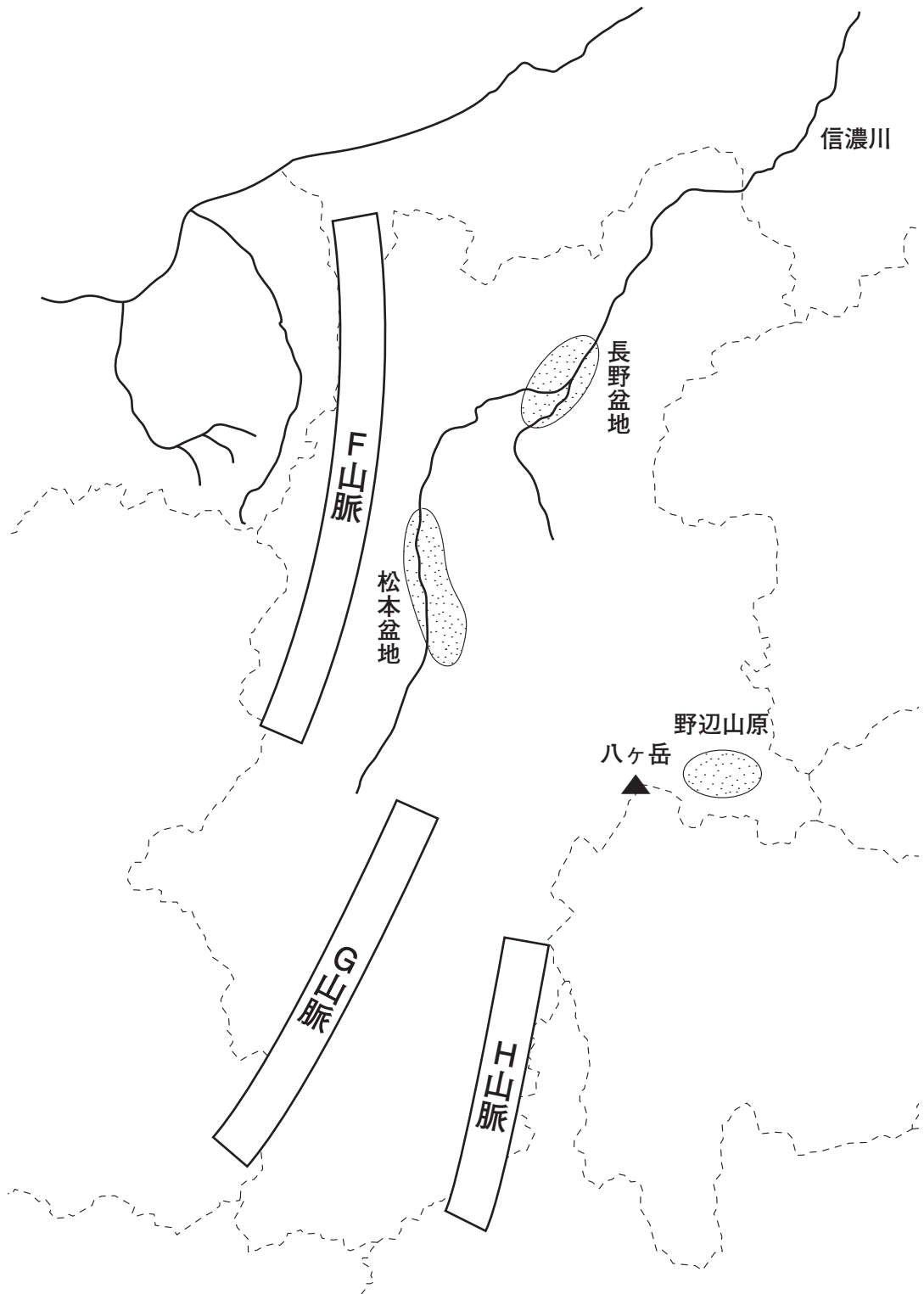
ア. 狭山さやま

イ. 宇治うじ

ウ. 八女やめ

エ. 知覧ちらん

問3. 下線部③とよばれている次の地図のF山脈、G山脈、H山脈のうち、G山脈とH山脈の名称をそれぞれ漢字で答えなさい。



問4. 下線部④は関東地方や東海地方に多くみられる坂の名称です。おそらくその多くは富士山が見えるからという理由で名づけられたと考えられます。しかし、現在東京都心にある富士見坂のなかには、富士山が見えなくなってしまったところも多いようです。その理由を説明しなさい。

問5. 下線部⑤について、以下の問いに答えなさい。

- (1) 近江富士のある県名を答えなさい。その際、「近江」とはどのあたりの旧国名なのか以下の文を参考にして答えること。

- ・近江とは京都から近い国にある湖を意味する旧国名である。
- ・浜名湖は京都から遠い国にある湖を意味するため、その旧国名を遠江という。

- (2) 空らん《 I 》には、ある有名な演歌<sup>えんか</sup>の歌詞（【資料3】）でも取り上げられている地名が入ります。《 I 》富士は《 II 》県にあるのですが、下の歌詞を参考にして、空らん《 II 》にあてはまる県名を答えなさい。

### 【資料3】

#### ※ 省略

資料：『津軽海峡冬景色』

歌詞《 II 》、《 II 》は  
空欄表記

作詞 阿久 悠

問6. 下線部⑥の時期に歌われる歌の歌詞として一番近いと考えられるものを、次のア～エから1つ選びなさい。

- ア. あかりをつけましょ ぼんぼりに お花をあげましょ 桃の花  
五人ばやしの 笛太鼓 今日のはたのしい ひなまつり
- イ. もういくつねると お正月 お正月には 凧あげて  
こまをまわして 遊びましょう はやく来い来い お正月
- ウ. どんぐりころころ どんぶりこ お池にはまって さあ大変  
どじょうが出て来て こんにちは ほっちゃん一緒に 遊びましょう
- エ. やねよりたかい こいのぼり おおきいまごいは おとおさん  
ちいさいひごいは こどもたち おもしろそうに およいでる

問7. 下線部⑦の時期におこなわれる日本の年中行事について述べた文として正しいものを、次のア～エから1つ選びなさい。

- ア. 男子の健やかな成長を祈り、各種の行事をおこなう、端午の節句という風習がある。
- イ. 京都では八坂神社の祭礼として、日本を代表する祭りである祇園祭がおこなわれる。
- ウ. 7歳、5歳、3歳の子どもの成長を祝う七五三とよばれる行事がある。
- エ. せりやなずなといった7種の野菜が入った七草粥を食べる風習がある。

問8. 文中の（ あ ）について、大妻多摩中学校では3年生の修学旅行で（ あ ）  
神社を見学します。以下の【資料4】は大妻多摩中学校のホームページに掲載さ  
れていた記事の一部です。

【資料4】

中学3年生修学旅行、2日目の様子  
をお伝えします。

日本三景のひとつ、宮島。夜中から朝  
方まで降り続いた雨は、幸いなことに  
発時刻には止みました。更に運の良いこ  
とに、（ あ ）神社の大鳥居の下まで歩  
いていくことができました。樹齢数百年  
のクスノキがその形のまま使用された大  
柱に直接手を触れ、大鳥居の迫力を実感しました。続いて社殿を見学し、国  
宝建築の重みと、そこから広がる情景の美しさを堪能しました。



〔2014年の写真〕

2014年の写真を見ると、【資料4】中の  
波線部にも書いてあるように生徒が大鳥  
居の下にいることがわかります。しかし、  
2013年の写真を見ると、大鳥居の近くには  
行けなかったことがわかります。なぜ2014  
年の時は大鳥居の近くまで行くことができ  
たのでしょうか。考えられる理由について  
説明しなさい。



〔2013年の写真〕

問9. 文中の（ い ）にあてはまる語句として正しいものを、次のア～エから1  
つ選びなさい。その際、本文を参考にして答えること。

ア. 中国            イ. ヨーロッパ            ウ. オセアニア            エ. インド



2 次の文章をよく読んで、下の問いに答えなさい。

あなたはお城に行ったことがありますか？ 城という字は「土」と「成」から成り立ちます。それぞれの持つ意味の通り、城の発祥は、外敵から身を守るために住居のまわりを掘り、その土を住居側に盛り上げた防衛装置です。

城の始まりは、①弥生時代の集落とされています。この時代の集落には、周囲に堀をめぐらせて集落を独立させるだけでなく、外敵の侵入を阻止するといった工夫も見られ、佐賀県にある（あ）遺跡は城の発祥とされています。

663年、白村江の戦いで日本・百済連合軍が唐・新羅連合軍に敗れると、ヤマト政権は②唐・新羅が日本へ侵攻してくるのを恐れ、「遠の朝廷」とよばれた九州にある③大宰府の防衛を強化するために城を築かせました。これが、古代の山城です。このように④律令国家の時期には、対外政策として城が築かれました。

平安時代後半から国内の情勢が不安定になり、城は内戦のために築かれるようになります。鎌倉時代に入ると、⑤鎌倉七口と呼ばれる出入口を設けた城郭都市が鎌倉に誕生します。1274年の元寇の際は、来襲に備えて博多を中心とした北九州沿岸に「石築地（元寇防塁）」も築かれました。

1467～77年、将軍の後継ぎをめぐる争いからおこった（い）をきっかけに戦国時代へ突入すると、戦いが日常化していきました。戦国大名たちは山城とふもとの行き来が不便になり、山城にも居住施設を作るようになっていきます。戦国時代後半になると⑥合戦の動員兵力も大きくなり、大軍に備えるために山頂だけではなく山全体も利用した大規模な山城が生まれました。そんななかで、それまでの城とは姿も特徴も違う革命的な城を発明したのが、織田信長です。信長は、単なる軍事施設にすぎなかった城をその性格は保ちつつ、権力と財力を誇示する象徴へと変えたのです。また、城下町を形成して⑦商業の発展を推進したことで、城は経済面でも領国の中心地となっていきました。

しかし、城はじょじょに姿を消していきます。南北朝時代から戦国時代に築かれた城は3～4万にもおよびましたが、江戸幕府が出した一国一城令により175城ほどに減少しました。しかも、同年に公布した⑧武家諸法度により、城の新築が基本的に禁止されただけでなく、改築や修理にも幕府の許可が必要になりました。

さらに⑨明治時代になって出された廃城令によって、城が壊されていきました。城を取り壊すとき、柱などが木材として売られた例も少なくありませんでした。

しかし、⑩昭和に入ると城の復興事業がさかんにおこなわれるようになり、またかつての史料にもとづいた復元事業もおこなわれました。1993年に姫路城、2000年に沖縄にある（う）城跡が世界遺産として登録されるなど、町おこしや観光地として城は注目を浴び続けています。

問1. 文中の（あ）～（う）にあてはまる語句を答えなさい。

問2. 下線部①について述べた文として誤っているものを、次のア～エから1つ選びなさい。

- ア. 銅鐸や銅鏡からわかるように、この時代に青銅器などの金属器が伝わった。
- イ. 三内丸山遺跡からわかるように、ゴミ捨て場である貝塚がみられた。
- ウ. 女王卑弥呼が治める邪馬台国という国が存在した。
- エ. 大陸から九州北部に稲作が伝わり、東日本まで広まった。

問3. 下線部②について、このとき天皇であったのは天智天皇です。天智天皇について、以下の問いに答えなさい。

(1) 彼が天皇に即位する前の皇太子だったとき、何とよばれていましたか。漢字で答えなさい。

(2) 天智天皇について述べた文として誤っているものを、次のア～エから1つ選びなさい。

- ア. 唐・新羅軍の反撃をおそれて、琵琶湖の近くに都をおいた。
- イ. 日本で初めて全国的な戸籍をつくった。
- ウ. 彼が天皇になる前に、中臣鎌足とともに蘇我蝦夷・入鹿父子をほろぼした。
- エ. 個別に役人を評価できるように、冠位十二階をもうけた。

問4. 下線部③について、九州沿岸防衛のための政策の1つとしておかれたものを次の史料を参考にしながら答えなさい。

唐衣 <sup>からころも</sup> すそにとりつき 泣く子らを 置き<sup>き</sup>てそ来ぬや 母<sup>おも</sup>なしにして

『万葉集』

意味：旅立つ私の着物のすそにすがりついて泣く子どもたちを置いてきたのだ。子どもたちには母親もいないというのに。

問5. 下線部④について述べた文として正しいものを、次のア～エから1つ選びなさい。

ア. 唐の制度や文化を伝えた遣唐使は危険な航海であったため、小野妹子などの帰国できない者もいた。

イ. 班田<sup>はんでん</sup>収授<sup>しゅうじゆ</sup>法<sup>のほう</sup>をおこない、3年ごとに戸籍をつくり、6歳以上の男子のみに口分<sup>くぶん</sup>田<sup>でん</sup>を与えた。

ウ. 桓武<sup>かんむ</sup>天皇の頃に、坂上<sup>さかのうえ</sup>田村<sup>たむら</sup>麻呂<sup>まろ</sup>を征夷大將軍に任命し、東北の反乱をしずめさせた。

エ. 聖武天皇は社会が不安定なことをうけて、五箇<sup>ご</sup>条<sup>かじょう</sup>の御誓<sup>ごせい</sup>文<sup>もん</sup>を全国的に発表し、政治方針をしめした。

問6. 下線部⑤について、鎌倉は「鎌倉城」とよばれることもあるように、都市自体が城の意味をなしていると考えられています。それはなぜですか。次の【資料Ⅰ】～【資料Ⅲ】を参考にしながら説明しなさい。

【資料Ⅰ】 鎌倉七口とは鎌倉市内に入るための七つの「切通<sup>きりどおし</sup>」とよばれる出入口のことで、人馬<sup>じんば</sup>の交通をおこなえるようにした人工的な道である。

【資料Ⅱ】 鎌倉の「切通」



【資料Ⅲ】 鎌倉の地形図



国立歴史民俗博物館 蔵

問7. 下線部⑥について、戦国大名にとって大きい戦力となっていたのは、右の図のように文中（い）のころから活躍<sup>かつやく</sup>し始めた身分の低い歩兵<sup>ほへい</sup>でした。このような人々のことを何といいますか。漢字で答えなさい。



※ 省略

資料：足軽

「真如堂縁起<sup>しんにょどうえんぎ</sup>」 京都 真正極楽寺<sup>しんしょうごくらくじ</sup> 蔵

問8. 下線部⑦について、信長がおこなったこととして誤っているものを、次のア～エから1つ選びなさい。

ア. 日本の中央拠点<sup>きょてん</sup>であった京都に近く、琵琶湖の水運も利用できるため、安土<sup>あづち</sup>に城を築いた。

イ. 楽市・楽座を出して、自由な取り引きをさせるため、座を解散させ、商業の活性化<sup>かつせい</sup>をはかった。

ウ. 日本では金や銀などの鉱物<sup>こうぶつ</sup>がたくさん採れたので、天正大判<sup>てんしょうおおばん</sup>や黄金の茶室をつくった。

エ. 税金を取り立てていた関所<sup>かんじょ</sup>を廃止して、商人やその他の人々が城下町に来やすいようにした。

問9. 下線部⑧について、武家諸法度は幕府が誰に対して守らせるべき規則として発布しましたか。正しいものを、次のア～エから1つ選びなさい。

ア. 大名                      イ. 将軍                      ウ. 公家                      エ. 天皇

問10. 下線部⑨について、次の人物たちがおこなった出来事の組み合わせとして正しいものを、下のア～カから1つ選びなさい。

X. 陸奥宗光                      Y. 板垣退助

A. 日本の外務大臣として、鹿鳴館<sup>ろくめいかん</sup>を設立させ、条約改正を実現しようとした。

B. 日本の外務大臣として、領事裁判権の撤廃を実現した。

C. 日本の外務大臣として、関税自主権の回復を実現した。

D. 自由民権運動の中心人物として、立憲改進黨を結成した。

E. 自由民権運動の中心人物として、自由党を結成した。

ア. X - A      Y - D                      イ. X - A      Y - E

ウ. X - B      Y - D                      エ. X - B      Y - E

オ. X - C      Y - D                      カ. X - C      Y - E

問11. 下線部⑩について、この時代におこった出来事について述べた次の A～D の文を、時代順に並べ替えたものとして正しいものを、下のア～カから1つ選びなさい。

- A. 日本は東条英機が内閣総理大臣に就任し、真珠湾を奇襲攻撃した。
- B. 佐藤栄作内閣のときに、占領されていた沖縄の返還が実現した。
- C. 日本と48カ国との間でサンフランシスコ平和条約が調印された。
- D. ニューヨークの株価が暴落し、世界恐慌がおこった。

ア. A → C → B → D

イ. A → D → C → B

ウ. A → B → D → C

エ. D → B → A → C

オ. D → A → C → B

カ. D → C → A → B

3 次の会話文をよく読んで、下の問いに答えなさい。

さち：実は私、①司法試験に合格したの！

りえ：おめでとう！ あなたの夢だった検察官になれるのね！

さち：ええ。でも司法試験に合格したら、②法曹三者のどれにでもなることができるから、私は裁判官になろうかと思っているの。

りえ：もし裁判官になったら、どこで働きたいの？

さち：私は将来、③最高裁判所で仕事をしてみたいわ。でも、まずは家庭裁判所に勤めたいな。④少年犯罪に興味があるの。

りえ：そうなんだ。私、広島出身なんだけど、昔広島では、犯罪者に入れ墨をして、一目で犯罪者だってわかるようにしていたのよ。広島では再犯を重ねるごとに額に「一」、「ナ」、「犬」と段階的に「犬」にしていたの。今じゃ考えられないわ。

さち：そうね。最近では、入れ墨がある外国人旅行者の温泉や銭湯の入浴についての議論があるわ。⑤日本では入れ墨の入っている人は入浴できないのが普通だけど、日本を訪れた外国人は、入れ墨があると銭湯に入りたくても入れないの。

りえ：そうよね。入れ墨がファッションの一部である外国の人たちが日本の観光を楽しむためには、⑥対策を練らないといけないと思うわ。

さち：そうかしら。私はそうは思わないわ。

りえ：日本では多くの人が入れ墨をしている人には抵抗があるような気がするわ。

さち：外国では入れ墨について好意的な考え方をもっていることもあるわよね。グローバル社会で折り合いをつけるのは難しいわね。

りえ：そうよね。これから考えていく必要がありそうね。

問1. 下線部①について、以下の問いに答えなさい。

- (1) 下線部①について、司法制度改革の1つとして、2009年に日本で導入された国民が裁判に参加するしくみのことを、「○○○制度」といいます。「○○○」にあてはまる語句を漢字3字で答えなさい。
- (2) 下線部①の仕事について述べた文として正しいものを、次のア～エから1つ選びなさい。
- ア. 法律をつくったり、政治の方向を話し合ったりする。
  - イ. 国務大臣たちと会議を開いて、政治の進め方を相談する。
  - ウ. 法律にもとづいて問題を解決し、国民の権利を守る。
  - エ. 選挙で選ばれた人たちが、事件を解決するために話し合う。

問2. 下線部②について、「法曹三者」とは「裁判官」「検察官」とあともう1つの職業のことをいいますが、その職業を何といいますか。下の人の発言を参考にして答えなさい。

私は、刑事裁判にたずさわって、被告を助けたりすることもあります。最近、依頼人の希望に応じて、民事裁判や相手方との和解交渉などをする方が多いです。





問3. 下線部③について、以下の問いに答えなさい。

(1) 下線部③について述べた文として正しいものを、次のア～エから1つ選びなさい。

ア. 刑事事件は最高裁判所の判決がくだるまで裁判を続けるという決まりがある。

イ. 最高裁判所の長官とその他の裁判官は、天皇の指名で、内閣が任命する。

ウ. 最高裁判所でおこなわれる弾劾<sup>だんがい</sup>裁判で裁判官はやめさせられることがある。

エ. 最高裁判所の裁判官が国民に審査されるのは、衆議院議員選挙のときである。

(2) 下線部③は、以下の憲法の条文にある「( あ ) 審査権」を持っています。

( あ ) にあてはまる語句を、漢字2字または4字で答えなさい。

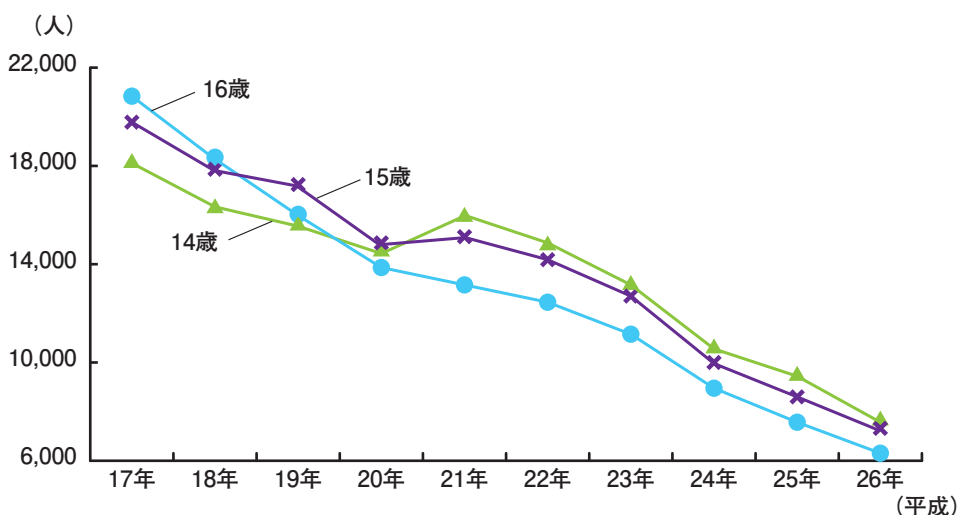
**日本国憲法 第81条**

最高裁判所は、一切<sup>いっさい</sup>の法律、命令、規則<sup>きそく</sup>又は処分<sup>しよぶん</sup>が憲法<sup>てきこう</sup>に適合<sup>てきごう</sup>するかしないかを決定する権限<sup>けんげん</sup>を有する終審<sup>しゅうしん</sup>裁判所である。

問4. 下線部④について、次の図1の説明について述べた文として誤っているものを、下のア～エから1つ選びなさい。

- ア. 年齢別にみると、平成18年までは16歳が最多であったが、平成19年には15歳、平成21年からは14歳が連続して最多となっている。
- イ. 平成21年以降は、14歳の初犯者数が15歳を上回っている。
- ウ. 平成17年の時点では、14歳の初犯者数が16歳を下回っている。
- エ. 犯行時年齢別初犯者の移り変わりは、どの年齢も平成19年から連続して減少している。

図1 犯行時年齢別初犯者数の推移



警察庁生活安全局少年課『少年非行情勢』平成27年2月発行より作成

問5. 下線部⑤について、なぜ日本の温泉や銭湯では、入れ墨が入っている人は入浴できないと考えられますか。本文と下の図を参考にして簡潔に説明しなさい。

### ※ 省略

写真：入れ墨の入った犯罪者の絵

法務省資料より

問6. 下線部⑥について、あなたが国の観光の仕事をする責任者だとしたら、どのような対策をおこないますか。以下の3人の意見を参考にして、その具体的な対策を説明しなさい。

**Aさん**：私は温泉施設の広報担当です。日本人と外国人観光客数は半々です。2020年の東京五輪を前に、若者のファッションや外国人の文化として入れ墨を受け入れる必要があると思います。行政がルールを示して欲しいと思います。

**Bさん**：私は温泉を経営していますが、以前、あごに入れ墨をしたニュージーランドの先住民の女性の入浴を断り、「時代遅れ」と抗議を受けましたが、今も同じ対応です。国際化も大切ですが、常連客を犠牲にはできません。

**Cさん**：私は日本に来た外国人の旅行客です。せっかく楽しみにしていた温泉に入れ墨を理由に拒否されて日本に本当にかっかりしています。私の国では多くの人が入れ墨は当たり前を楽しんでいますよ。

