

大妻多摩中学校

2023 (令和5) 年度

入学試験問題 (国際進学 第2回)

【 英 語 】

時間 20分

2月2日 (木)

【 注意事項 】

1. 試験はすべて、放送の指示で行います。
2. 指示があるまで、この冊子を開いてはいけません。
3. 問題は6ページまであります。
4. ページが抜けていたり、印刷が見えにくかったりする場合には、手をあげて知らせてください。
5. 答えはすべて、問題の指示に従って解答用紙に記入してください。

【問1】

これから2人の短い対話が放送されます。対話の中で、数字と英語のつづりを確認しています。下線部に入るアルファベットの大文字もしくは数字を書き取りなさい。放送は1回です。

(1) _____ — 8 _____ 40

(2) _____ TUA _____


(3) _____ 526 _____ 9 _____

【問2A】

2人の対話の後に質問が放送されます。その答えとして最も適切なものを、①～④の中から1つ選び、数字で答えなさい。放送は1回です。

(1)


①




②



③



④



(2)

①



②



③



④



【問2B】

マリアとケンタが、マリアが夏休みに行く旅行について話しています。マリアはこれから旅行に必要な物を自分の持ち物の中から選ぶようとしています。実際に持って行くものを下の絵の中から全て選び、番号で答えなさい。放送は1回です。

①



②



③



④



⑤




⑥



⑦



⑧



⑨



⑩



⑪



⑫



【問3】

2人の短い対話を聞き、その後続く最も適切な応答を、放送される3つの中から1つ選び、数字で答えなさい。放送は2回です。

- (1) 放送のみによる問題
- (2) 放送のみによる問題
- (3) 放送のみによる問題
- (4) 放送のみによる問題
- (5) 放送のみによる問題

【問4】

2人の対話とそれについての質問が放送されます。質問の答えとして最も適切なものを、以下の1～4の中から1つ選び、数字で答えなさい。放送は2回です。

- (1)
 - 1. 歯医者者の住所
 - 2. 歯医者者の営業時間
 - 3. 歯医者者の評判
 - 4. 歯医者者の料金

- (2)
 - 1. 10:30
 - 2. 10:45
 - 3. 11:00
 - 4. 11:45

- (3)
1. 会議があるので
 2. 大阪にいるので
 3. オンラインで
 4. 1時に

- (4)
1. 大谷
 2. 野球
 3. エンゼルス
 4. テニス部

- (5)
1. 5月11日
 2. 5月12日
 3. 5月13日
 4. 5月30日

【問5】

マークとアリスが、今週の学校給食の献立^{こんだて}を見ながら、「フードマイル」の問題について話し合っています。2人の対話を聞いて、その内容に合うように以下の要約文の空欄を日本語で埋めなさい。放送は2回で、1回目と2回目の放送の間に20秒の解答時間があります。

はじめに、要約文を読む時間をとります。時間は20秒です。

給食の食材はいろいろな国から輸入されています。例えば、月曜日の給食はチリからの魚、水曜日の給食は___1___です。フードマイルという考えがあり、それは食材が輸送される___2___のことです。フードマイルが増えると、輸送で発生する二酸化炭素（CO₂）の量も増えます。

外国で生産された食材は日本で生産された食材の___3___の量の二酸化炭素^{はいしゅつ}を排出します。外国で生産された食材が排出する二酸化炭素の量は、年間___4___万トンになります。日本のフードマイルの量は、世界で___5___です。また、輸入される食品の半分以上は、トウモロコシや小麦などの穀物です。それらはほとんどアメリカから輸入されます。

フードマイルを減らすには、国内で食材を生産すれば良いと思うでしょうが、そうすると食材の値段が___6___、いろいろな食材を食べることが出来なくなるでしょう。

