

平成 27 年度

入学試験 問題（第 2 回）

社 会

2 月 2 日（月）

配布用

「※ 省略」の部分に記載されている写真・地図・表・グラフなどは、著作権上の問題からこの冊子には掲載することができませんので、ご了承願います。

—注意事項—

1. 問題は 25 ページまであります。
2. 指示があるまで、この冊子を開いてはいけません。
3. ページが抜けていたり、印刷が見えにくい場合には、手をあげて知らせてください。
4. 試験時間は 40 分です。
5. 答えはすべて、問題の指示にしたがって解答用紙に記入しなさい。

1 次の会話文は、(あ) 県にある2つの半島についてそれぞれの半島を出身地とする中学生が話しているものです。よく読んで、下の問いに答えなさい。

知子：自己紹介をするときに、「(い) 半島にある半田市の出身です」と言うと、ほとんどの人が「ああ、伊良湖岬のあるあの半島ね」と答えるんだけど、どうしてだと思う？そのたびに訂正するのが面倒なのよ。

美子：私の出身地は、伊良湖岬がある(う) 半島の田原市なんだけど、この岬が全国的にも有名だからじゃないの。あの歌を知らない人はいないからね。

知子：あの歌って？

美子：“名も知らぬ遠き島より…”，というあの歌よ。

知子：①『椰子の実』ね。確かにとてもロマンチックな話をもとに詩が作られているから有名なのね。

美子：椰子の実が遠い南の島から流れ着いたなんて想像するだけで感動するわ。

知子：(い) 半島には、そういうロマンチックな話はないわ。

美子：さらに、(う) 半島は『椰子の実』だけじゃなくて、②お花畑や③《 I 》狩りが有名だわ。

知子：ますます情緒的で素敵じゃない。

美子：確かにそうね。

知子：でも(い) 半島も負けてないわよ。(い) 半島は④名古屋市に近いこともあって、ずっと産業的にも発展しているのよ。⑤どっちの半島の方が椰子の実が流れ着きやすいか地図を見れば一目瞭然でしょう。間違えるはずはないのにな。

美子：(い) 半島で宣伝できるものって何があるの？

知子：あげたらきりがないわよ。まず、(い) 半島の先のほうは、名古屋の人にとって気楽に行ける行楽地でもあるのよ。内海やほかの海水浴場は有名よ。⑥昔は、内海で水を飲むとやけに塩味のきいた井戸の水だったらしいけど、今ではそれも水道水が使えるようになって解決したのよ。

美子：知子ちゃんの出身地の半田市って確か有名な会社があったんじゃないの？

知子：よくぞきいてくれました！(い) 半島は江戸時代から醸造業がさかんで、ミツカンの本社があるのよ。その他に、半田市じゃないけど⑦焼き物も有名で、平安時代からさかんに作られていてほとんど日本中に広がっていったそうよ。

美子：「南セントレア市」なんて名前の市が誕生しかかったのは（ い ）半島よね。
知子：恥ずかしい話だわ。地域の歴史と関係のない耳慣れないカタカナ語ということもあって、住民からだけでなく全国から批判が殺到したのよ。
美子：でもこの「セントレア」って（ え ）空港の愛称なんでしょう。なんとなくだけど、（ い ）半島のほうが近代的な感じがするわ。西岸北部の東海市や（ い ）市の沿岸部は、名古屋港から続く埋立地に工場が連なって⑧中京工業地帯のコンビナートとなっているのよね。

問1. 次は下線部①の歌詞です。

名も知らぬ遠き島より 流れ寄る椰子の実一つ
故郷の岸を離れて 汝はそも波に幾月

この詩は、1898年（明治31年）の夏、1ヶ月半ほど伊良湖岬に滞在した柳田國男が浜に流れ着いた椰子の実の話を島崎藤村に語り、藤村がその話をもとに作ったものです。椰子の実を伊良湖岬の浜まで運んだ海流として考えられるものを、次のア～エから1つ選びなさい。

ア. 対馬海流 イ. 日本海流 ウ. 千島海流 エ. リマン海流

問2. 下線部②について、（ う ）半島には、全国の生産量の約30%を占めている花があります。この花は花芽の形成と開花時期を遅らせる方法で栽培されています。この方法で栽培されている花を何といいますか。漢字3字で答えなさい。

問3. 下線部③の《 I 》にあてはまる^{くだもの}果物を、次のア～エから1つ選びなさい。

ア. なし イ. ぶどう ウ. メロン エ. もも

問4. 下線部④について、以下の問いに答えなさい。

(1) 次の気温と降水量を表すグラフは、下線部④のもので、このグラフについて説明した文として正しいものを、下のア～エから1つ選びなさい。

※ 省略

名古屋市の雨温図

- ア. 年間降水量は2000mmを超え、日本海側の雪の多い地方よりも多い。
- イ. 12月から2月の平均気温は0℃以下だが、冬の降水量は少ない。
- ウ. 降水量が最も多いのは、^{つゆ}梅雨の時期にあたる6月である。
- エ. 8月の平均気温が1年のなかで最も高く、降水量は9月が最も多い。

(2) 次のア～エの表は、東京港、横浜港、名古屋港、神戸港の輸出入上位3品目の金額と割合を表しています。名古屋港にあたるものを、ア～エから1つ選びなさい。

ア

輸出品目	億円	%	輸入品目	億円	%
自動車	12,269	18.1	石油	4,106	11.2
自動車部品	4,338	6.4	液化ガス	3,373	9.2
金属加工機械	4,203	6.2	衣類	1,796	4.9
計(その他を含む)	67,784	100.0	計(その他を含む)	36,659	100.0

イ

輸出品目	億円	%	輸入品目	億円	%
コンピュータ部品	3,610	7.7	衣類	6,513	7.7
自動車部品	3,328	7.1	コンピュータ	4,906	5.8
プラスチック	2,344	5.0	魚と貝	4,568	5.4
計(その他を含む)	46,877	100.0	計(その他を含む)	84,585	100.0

ウ

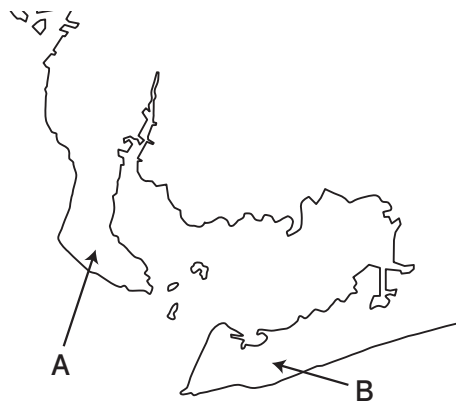
輸出品目	億円	%	輸入品目	億円	%
自動車	27,094	28.0	液化ガス	7,979	17.2
自動車部品	14,128	14.6	石油	6,030	13.0
内燃機関	4,645	4.8	衣類	2,876	6.2
計(その他を含む)	96,764	100.0	計(その他を含む)	46,387	100.0

エ

輸出品目	億円	%	輸入品目	億円	%
プラスチック	2,755	5.5	衣類	1,994	7.6
建設・鉱山用機械	2,405	4.8	たばこ	1,784	6.8
織物類	1,753	3.5	有機化合物	1,128	4.3
計(その他を含む)	50,098	100.0	計(その他を含む)	26,236	100.0

『日本のすがた 2014』 矢野恒太記念会 より作成

問5. 下線部⑤について、次の地図中のA、Bのうち、(う) 半島はどちらか答えなさい。



問6. 下線部⑥について、なぜ水道水が使えるようになったのですか。簡単に説明しなさい。

問7. 下線部⑦は常滑焼を指しています。常滑の読み方をひらがなで答えなさい。

問8. 下線部⑧は自動車工業が発展しており、豊田、刈谷^{かりや}、岡崎などの都市が有名です。特に豊田市には、この都市から大発展した自動車会社に関連する施設^{しせつ}が多数あるため、この都市の住民の生活全般は、何らかの形で自動車生産企業とかがわっています。この豊田市のように企業と深く結びついた都市を「企業○○町」といいます。○○にあてはまる語句を漢字2字で答えなさい。

問9. 会話文中の(あ) ~ (え) にあてはまる語句の組み合わせとして正しいものを、次のア~エから1つ選びなさい。

- ア. あ…愛知 い…知多 う…渥美 え…中部国際
- イ. あ…静岡 い…渥美 う…知多 え…中部国際
- ウ. あ…愛知 い…渥美 う…知多 え…関西国際
- エ. あ…静岡 い…知多 う…渥美 え…関西国際

【このページに問題はありません】

2 次の文章は、かつて新聞に連載^{れんさい}されていた「CM 天気図」というコラムです。よく読んで、下の問いに答えなさい。(文章には一部ふりがなと注をつけています)

四国の(あ)県が「うどん県」に改名^{かいいい}した。俳優^{はいゆう}で(あ)県出身^{かなめじゆん}の要潤クンが副知事になって改名の記者会見^{きしやくかいけん}をしたり、東京の郵便会社^{ゆうびん}を訪れて「宛先^{あてさき}をうどん県と書いてもちゃんと配達^{はいたい}して欲しい」と依頼したり、積極的に改名のPRに当たっている。で、石倉三郎^{いしくらさぶろう}さんや松本明子^{まつもとあきこ}さんのような県出身のタレントさんたちも、それにひと役^{やく}買っているようだ。

というのほうで、これはあくまで県がホームページで展開しているネット上の遊びである。が、県の広報活動^{くわんぱく}という「いきいき〇〇県」とか「さわやか××県」といった調子の無策丸出し^{むさくまるだ}のものが多くなかで、これは出色^{しゆっしよく}のアイデアといっていだらう。① さすが広告の天才、弘法大師^{こうぼうだいし}や平賀源内^{ひらがげんない}を生んだ土地柄^{がら}である。

もちろん、県の名前には、それぞれに歴史^{ゆらい}や由来があるから、実際にはそうそう変えるわけにはいかない。が、自分の県を「うどん県」に改名し、そこからおこる波紋^{はもん}のあれこれを面白く描いてみせるような遊び感覚は、② 広報活動に大いにあっていい。

たとえば、(あ)県のお隣の愛媛県^{あいの}は、野球の父・正岡子規^{しき}のふるさとであり、トヨヨイのヨイ~の「野球拳^{けん}」発祥^{はつしょう}の地でもある。となれば、やっぱり愛媛県は「野球県」だし、その愛媛と海をへだてて向かい合う(い)県は、名物^{めいぶつ}の関サバ^{せき}にちなんで「サバ県」なんて改名したっていいのだ。

で、③ 日本の47都道府県をすべて改名した「もう一つの県別地図」ができれば、それはそれでけっこう面白いんじゃないだろうか。うちは特に名物はないが、おっとりした人が多いのが特徴だという県は「おっとり県」でいいし、あわて者が多い東京などは、さしずめ「おとっ都」がいいと思う。

2011年12月14日『朝日新聞』朝刊

問1. 下線部①について、弘法大師と後^{のち}に言われるようになった空海^いは、この地域に満濃池^{まんのういけ}をつくったことで有名です。現在でもこの地域には、満濃池のような水不足に備える池が数多くあります。このような池を何といいますか。

問2. 下線部②について、四国には、四国八十八ヶ所^{れいじょう}霊場というものがあります。これは四国に^{てんざい}点在する弘法大師ゆかりの88ヶ所の寺院をめぐるものです。昨年(2014年)は霊場が開かれてから1200年にあたる年で、四国では^{さまざま}様々な企画がおこなわれていました。特に(あ)県では、以下の資料Ⅰのように県のホームページで^{せんでん}宣伝していました。この88ヶ所を1番札所から88番札所までお参りするコースを県でならべた場合として正しいものを、以下の4つの寺院の住所(資料Ⅱ)を参考にして、一番下のア～エから1つ選びなさい。ただし、ア～エは以下の四国4県の説明文(資料Ⅲ)をならべたものです。

資料Ⅰ



資料Ⅱ

第1番札所	^{なる と おおあさ ばんどう} 鳴門市大麻町板東塚鼻126	第24番札所	^{むろ と みさき} 室戸市室戸岬町4058-1
第59番札所	^{いまぼり} 今治市国分4-1-33	第84番札所	^{やしま} 高松市屋島東町1808

資料Ⅲ

- A 県. キウイフルーツの生産量は全国1位で、^{だんだんばたけ}段々畑のみかん栽培も有名である。
- B 県. なすの生産量は日本有数で、和紙は伝統的工芸品となっている。
- C 県. 一年中雨の少ない気候で、うどんの消費量は全国1位をほこる。
- D 県. ^{あわじしま}淡路島と橋でつながっており、^{あわ}阿波おどりと^{しお}やうず潮は有名である。

- ア. A 県 → B 県 → D 県 → C 県
- イ. C 県 → D 県 → B 県 → A 県
- ウ. D 県 → B 県 → A 県 → C 県
- エ. B 県 → A 県 → C 県 → D 県

問3. 下線部③について、文中の（ あ ）県とある県が、「瀬戸大橋県」という県名を改名候補こうほにあげたとします。その場合、ある県とは何県にあたると考えられますか。

問4. 文中の（ あ ）県について述べた文として正しいものを、次のア～エから1つ選びなさい。

- ア. 人口が最も少ない県である。
- イ. 内陸県であり海岸線はない。
- ウ. 海岸線が最も長い県である。
- エ. 面積が最も小さい県である。

問5. 文中の（ い ）県について述べた文として正しいものを、次のア～エから1つ選びなさい。

- ア. 地熱発電所ちねつがあり、別府べつふは温泉地として有名である。
- イ. 海岸には砂丘が広がっており、観光地としても有名である。
- ウ. ピーマン、きゅうりなどの促成栽培そくせいさいばいが有名である。
- エ. 山がちで平野が少ないため、みかんの栽培が有名である。

問6. この本文の著者ちよしゃが書いているように、もしあなたが鹿児島県の広報活動として県名を改名するとしたらどのような名前をつけますか。その県の特産品を参考に改名した県名を答えなさい。

【このページに問題はありません】

3 次の史料を参考にして、下の文章をよく読んで、後の問いに答えなさい。

史料 1

大君^{おおきみ}は 神にしませば 天雲^{あまくも}の 雷^{いかづち}の上に 庵^{いおり}せるかも

(天皇は神でいらっしゃるので、空の雲の上にお住まいをつくっていらっしゃる)

史料 2

大日本帝国は万世^{ばんせい}一系^{いつけい} (注) の天皇^こ之^れを統治^{とうち}す

天皇は神聖^{しんせい}にして侵^{おか}すべからず

注：「万世一系」とは天照大神^{あまてらすおおみかみ}以来、長く続いて絶えない皇室の系統のこと

この2つの史料は、「神」としての性格がよくあらわれた天武天皇と明治天皇を示した史料です。史料1は①壬申の乱に勝って「神」とよばれるようになった天武天皇についての歌です。史料2は『大日本帝国憲法』の天皇について定めた文です。天武天皇と明治天皇、この2人はどのようないきさつから「神」とされるにいたったのでしょうか。

7世紀後半、日本が②唐・新羅の連合軍に負けたあと、唐・新羅軍が日本に攻めてくることを心配した③天智天皇が国を守るための政策を次々とおこないました。その政策に追われるなかで天皇が亡くなると、後継^{あとつ}ぎをめぐって壬申の乱がおこります。そして、その勝利者である天武天皇が「大君は神にしませば」とうたわれる地位を確立したのです。

次に19世紀後半についてみてみましょう。④ペリー来航以降、薩摩藩^{さつま}と長州藩がそれぞれ外国の艦隊^{かんたい}と戦い、攻撃^{こうげき}されて大きな痛手^{いたで}を受けるという混乱のなかで、⑤幕府は天皇に政権をわたします。その後⑥戊辰戦争という内乱^{ぼしん}がおこり、勝利した明治天皇を頂点とする新政府が確立します。そして、天皇は「⑦神聖」な存在であると憲法に定められることとなったのです。

このようにみると、2人の天皇が出現する時期に共通する出来事^{できごと}は「外国からの圧力」と「内乱」です。こうした困難を乗り越えることによって天武天皇・明治天皇を中心とした新しい国が目指されたのです。

さらに、この2人の天皇が「神」として人々に意識された大きな理由に⑧『古事記』・

『日本書紀』があったことも忘れてはいけません。この書物の完成は2つとも⑨奈良時代ですが、天武天皇が「なぜ天皇が支配しているか」という天皇中心の国であることの正当性を説く目的をもってつくり始めたものとして知られています。その歴史を語るうえで、2つの書物にまとめられた神話のなかには⑩出雲の神話や因幡の白うさぎ、⑪三種の神器の話、ヤマタノオロチを退治する話などが含まれています。なかにはみなさんも知っている話があるのではないのでしょうか。

問1. 下線部①および下線部⑥とは何のことですか。正しいものを、次のア～エから1つ選びなさい。

- ア. 天皇号 イ. 地名 ウ. 年号 エ. 干支

問2. 下線部②について、この戦いを何といいますか。漢字を使って答えなさい。

問3. 下線部③が即位する前におこった出来事について述べた次のA～Cの文を、時代順に並べ替えたものとして正しいものを、下のア～カから1つ選びなさい。

- A. 厩戸皇子（聖徳太子）が冠位十二階や憲法十七条を制定した。
B. 卑弥呼が中国の皇帝から「親魏倭王」という称号を授かった。
C. 力をつけてきた蘇我蝦夷・入鹿父子がほろぼされた。

- ア. A → B → C イ. A → C → B ウ. B → A → C
エ. B → C → A オ. C → A → B カ. C → B → A

問4. 下線部④について、この時、日本とアメリカとの間で結ばれた条約によって2つの港が開港されました。その港を次の図のア～エから1つ選びなさい。



問5. 下線部⑤について、この時の将軍は誰ですか。漢字で答えなさい。

問6. 下線部⑦について、大日本帝国憲法における天皇はこのように定められていますが、現在の日本国憲法において、天皇の存在はどのように定められていますか。漢字で答えなさい。

問7. 下線部⑧について、『古事記』と『日本書紀』はどちらも日本の歴史について書かれたものですが、同じ時期に同じような内容の書物がつくられたことには理由があります。『古事記』と『日本書紀』の違いを次の各文を参考にしながら、説明しなさい。

- ・ 古事記は日本語で読むことができる。
- ・ 古事記は「国譲り」や「天孫降臨」など日本古来の神話が多く書かれている。
- ・ 日本書紀は中国の歴史書の形式にならない、作成に渡来人が関わったとされている。
- ・ 日本書紀は遣唐使によって中国にも運ばれた。

問8. 下線部⑨について述べた文として誤っているものを、次のア～エから1つ選びなさい。

- ア. 交通に便利な大きな川の間、唐の都長安ちょうあんにならって平安京がつくられた。
- イ. 中国の僧である鑑真がんじんが、何度もの失敗を乗り越えて、失明しつめいしながらも来日した。
- ウ. 聖武天皇が仏教の力で国が安定するように、東大寺に大仏をつくり始めた。
- エ. シルクロードを通じて、日本にも西アジアやヨーロッパの文物ぶんぶつが入ってきた。

問9. 下線部⑩は現在の何県の一部ですか。県名を漢字で答えなさい。

問10. 下線部⑪について、1950年代後半に「三種の神器」とよばれたものの組み合わせとして正しいものを、次のア～エから1つ選びなさい。

- ア. カラーテレビ・洗濯機・掃除機
- イ. 白黒テレビ・洗濯機・冷蔵庫
- ウ. カラーテレビ・自動車・クーラー
- エ. 白黒テレビ・自動車・冷蔵庫

4 次の文章をよく読んで、下の問いに答えなさい。

あなたは、最近切手を使いましたか。現代社会では、インターネットや携帯電話が通信の主流となっていますので、手紙や葉書を送るということは少なくなってきたのかもしれませんが。今日は切手のことを少し知って、切手の奥深さにふれてみましょう。

1840年のイギリスで、郵便利用料を前払いしたことを示す紙片である切手が誕生しました。それにより、郵便料金の支払い方が昔より便利でわかりやすいものに変化しました。日本で切手が発行されたのは、西洋の近代郵便制度を取り入れた1871年のことでした。こうして江戸時代の（あ）制度にかわって、明治政府のもとで全国均一料金の郵便制度が作られたのです。図Aは、「横浜郵便局開業之図」です。日本はアメリカと日米郵便交換条約を結び、外国郵便の取り扱いを開始しました。当時の横浜には、鉄道が通ったり、石畳の道にれんがづくりの建物が並んだりしました。このような光景は①文明開化を代表するものとなりました。掲げられている旗は「郵便旗」ですが、50年後に②現在も使われている「〒」マークの旗に変わりました。

図A

※ 省略

絵図：横浜郵便局開業之図

切手発行の目的は、時代によって移り変わっていきました。19世紀までに発行された切手の多くは、国を代表する人物の肖像で、その人物の力を国民に示していたといえます。日本では1885年、内閣制度の発足のもとで通信を担当する通信省が誕生し、皇太子の台湾訪問記念切手などが発売されました。1910年代から40年代の切手は、軍事的な図案のものが目立ちます。シンガポール陥落記念切手や満州国建国10周年記念切手などの切手を通して、戦争の正当性を宣伝し、国民の戦意を高めていたようです。こうして、国家の政策や主張が切手を通して多くの人々に伝えられました。

切手発行の目的は戦後も変わりました。昭和20年代には通信省に切手普及部が設置され、今も人気の高い③「見返り美人図」が発売されました。その後、④「文化人切手」などが発売され、昭和30～40年代の日本では、切手収集が一大ブームとなりました。郵便局で発売される切手の多くが、美しく伝統的な仕上がりでした。スポーツを描いた東京オリンピックの寄付金付き切手や、⑤江戸時代の浮世絵を題材とした切手などが、その代表格でしょう。昭和50年代、切手ブームは落ち着いていきましたが、第二次国宝シリーズ切手や、近代美術シリーズ切手などが人気でした。現在も多くの人を魅了しています。

切手を集めることに、世代、男女の区別はありません。あなたも切手収集を楽しんでみてはいかがでしょうか。

問1. 文中の（あ）にあてはまる語句を、**図B**

右の**図B**を参考にして漢字で答えなさい。

※ 省略

飛脚の絵

問2. 下線部①について、下の資料Ⅰ～資料Ⅲを参考にして文明開化がどのようなものであったのか読み取ったうえで、日本の文明開化の様子を説明しなさい。

資料Ⅰ

木戸孝允は「日本橋近辺一里四方位（注）の開化」という文書を残している。

注：一里とは約4kmで、一里四方の地域とは、当時の麴町区東部・神田・日本橋・京橋に相当する。

資料Ⅱ

構造別による東京の主な地域の家屋数
(1879年)

※ 省略

資料Ⅲ

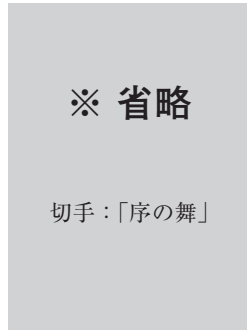
※ 省略

地図：左の表を地図化したもの

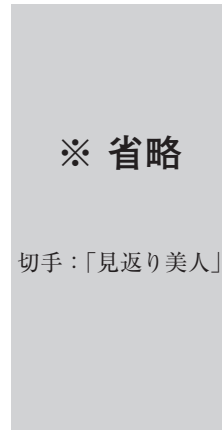
※ 資料Ⅱと資料Ⅲは石塚裕道『都市下層社会と「細民」住居論』（1979）より作成。

問3. 下線部②について、このマークはある語句の頭文字のカタカナ1字をとっているといわれています。その語句を文中から漢字3字で抜き出して答えなさい。

問4. 下線部③について、^{ひしかわものぶ}菱川師宣が^{えが}描いた「見返り美人図」はどれですか。次のア～エから1つ選びなさい。



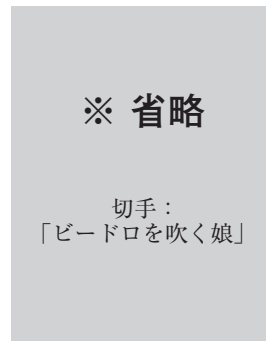
ア



イ



ウ



エ

問5. 下線部④について、次の文化人A～Dについて述べた文として誤っているものを、下のア～エから1つ選びなさい。

<p>※ 省略</p> <p>切手： 「野口英世」</p>	<p>※ 省略</p> <p>切手： 「福沢諭吉」</p>	<p>※ 省略</p> <p>切手： 「夏目漱石」</p>	<p>※ 省略</p> <p>切手： 「樋口一葉」</p>
A	B	C	D

- ア. Aは科学者で、日本で初めてノーベル物理学賞を受賞した。
- イ. Bは慶應義塾^{けいおうぎじゅく}の創始者^{そうししや}で、多数^{ちよさく}の著作により西洋文化の紹介につとめた。
- ウ. Cは文学者で、「坊ちゃん」「吾輩^{わがはい}は猫である」などの名作を残した。
- エ. Dは作家で、「たけくらべ」「にぎりえ」などの作品を残した。

問6. 下線部⑤について、下の絵は、実際の切手にも使用されたものです。この浮世絵の作者は誰ですか。漢字で答えなさい。

※ 省略

浮世絵：「東海道五十三次 日本橋」

【このページに問題はありません】

5 次の新聞記事をよく読んで、下の問いに答えなさい。

65歳以上初の25%超え

昨年推計 総人口3年連続減

(あ)は15日、2013年10月1日現在の日本の総人口(外国人を含む)が前年より21万7000人減り、1億7729万8000人(前年比0・17%減)になったとする人口推計を発表した。人口減は3年連続。働き手の中心である15〜64歳の生産年齢人口が32年ぶりに8000万人を下回る一方、65歳以上の高齢者の割合が比較可能な統計がある1950年以降、初めて総人口の4分の1を超えた。少子高齢化が進み、人口減による労働力不足が深刻化している実態が浮き彫りになった。〈関連記事2面〉

総人口のうち、日本人の人口は前年比25万3000人減の1億2570万4000人。3年連続の減少で、過去最大の減少幅となった。一方、外国人(日本在住3か月以上)の1年間の入国者数から出国者数を差

し引いた「社会増減」は、09年以来4年連続で減少していたが、()かからの復興の本格化や景気回復などにより、5年ぶりに増加に転じて3万7000人の増となった。

(中略)
50年以來増加している65歳以上の高齢者の人口は、同110万5000人増の3189万8000人となり、総人口の25・1%を占めた。総務省は「『()世代』が65歳を迎えているため、高齢者人口が大幅に増えた」としている。

問1. 新聞記事中の（ あ ）にあてはまる語句を、次のア～エから1つ選びなさい。

ア. 総務省 イ. 財務省 ウ. 農林水産省 エ. 文部科学省

問2. 新聞記事中の（ い ）にあてはまる語句を、漢字で答えなさい。

問3. 次の資料Iは、日本の出生数と合計特殊出生率（一人の女性が生涯で産む平均的な子どもの数）の変化を表しています。資料I中の※について、その部分がかぼんでいる理由を述べた文として正しいものを、下のア～エから1つ選びなさい。

資料I

※ 省略

グラフ：日本の出生率と合計特殊出生率の変化

ア. その年は、土地や株の価格が急激に上がってバブル経済が崩壊し、不況になったから。

イ. その年は、オウム真理教によるテロをきっかけにして、国内で治安に対する不安が広がったから。

ウ. その年は、アメリカでサブプライムローン問題をきっかけにしてリーマン・ショックがおこったから。

エ. その年は、「丙午」といわれ、その年に生まれた女性は気が強く、気性が激しいという迷信があったから。

問4. 次の資料Ⅱ・Ⅲを見て、下の問いに答えなさい。

資料Ⅱ



日本

資料Ⅲ



エチオピア

- (1) 新聞記事中の(う)世代は、上の資料ⅡのXで示した世代のこともあります。(う)にあてはまる語句を、次のア～エから1つ選びなさい。
ア. さとり イ. 失われた ウ. 団塊だんかいの エ. ゆとり
- (2) 新聞記事中の(あ)は2013年5月、「こどもの日」に合わせて15歳未満の子どもの推計人口すいけいを発表しました。総人口しに占める15歳未満の割合はどれくらいですか。最も近いものを、次のア～エから1つ選びなさい。
ア. 33% イ. 24% ウ. 13% エ. 5%
- (3) 資料Ⅱと資料Ⅲから読み取れることについて述べた文として正しいものを、次のア～エから1つ選びなさい。なお、資料Ⅲのエチオピアは、アフリカにある国です。
ア. エチオピアでは医療条件が悪化していることがわかる。
イ. エチオピアでは日本と比べて合計特殊出生率が高いことがわかる。
ウ. エチオピアでは日本と比べて子どもの数が少ないことがわかる。
エ. エチオピアでは日本と比べて人口が多いことがわかる。

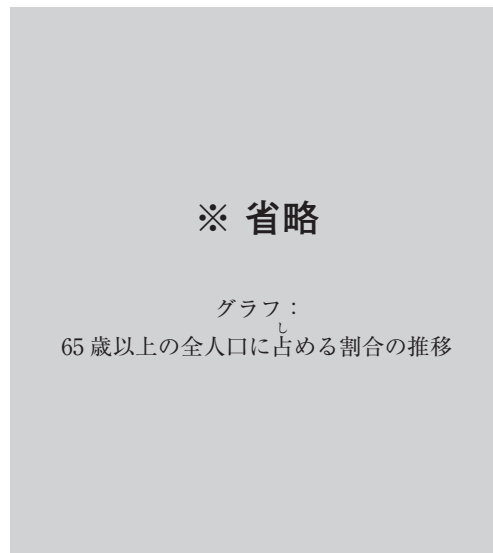
問5. 少子高齢化が進むと、どのような世の中の変化がおこると考えられますか。

そのことを説明した文として正しいものを、次のア～エから1つ選びなさい。

- ア. お年寄りを支える働く人たちの負担の増加
- イ. お年寄りを支える働き手の世代の人数の増加
- ウ. 男性が総人口に占める割合の増加
- エ. 義務教育対象年齢の子どもの人数の増加

問6. 次の資料Ⅳから読み取れることを正しく説明している文を、下のア～エから1つ選びなさい。

資料Ⅳ 65歳以上の全人口に占める割合の推移



- ア. 日本の高齢化のスピードはその他の国と比べると緩やかに進んでいる。
- イ. 1950年には日本の高齢者の割合は約10%で、フランスよりも低い状態にある。
- ウ. 2000年における、日本の高齢者の割合は、アメリカよりも高くなっている。
- エ. 2050年にはドイツの高齢者の割合が35%を上回る予定である。

問7. 人口減少社会の未来について新聞記事中の傍線部のように心配する声もありますが、期待が持てる部分もあります。どのようなことが期待がされますか。次の資料Vを参考にして、説明しなさい。

資料V

国名	面積 (万 km ²)	人口 (万人)
日本	37.8	12,806
スウェーデン	45.0	938
スペイン	50.6	4,608
イタリア	30.1	6,055

『世界国勢図絵』2013/14年版より作成

【これより後に問題はありません】

