

平成 26 年度

入学試験 問題（第 2 回）

社 会

2 月 2 日（日）

配布用

「※ 省略」の部分に記載されている写真・地図・表・グラフなどは、著作権上の問題からこの冊子には掲載することができませんので、ご了承願います。

—注意事項—

1. 問題冊子は 19 ページまであります。
2. 指示があるまで、この冊子を開いてはいけません。
3. ページが抜けていたり、印刷が見えにくい場合には、手をあげて知らせてください。
4. 試験時間は 40 分です。
5. 答えはすべて、問題の指示にしたがって解答用紙に記入しなさい。

1 次の文章をよく読んで、下の問いに答えなさい。

わが国は世界有数の森林国で、森林面積の割合が国土面積の約（あ）となっています。また①日本列島は木の生育に適しており、森林の種類もとても豊富なため、家具をはじめとして多くの木がくらしのなかで使われてきました。

日本列島には、②すぎ、ひのき、まつなどおもに建築用に利用され、まっすぐにのびる針葉樹林と、なら、③ぶな、しい、くぬぎなど地中に広く根をはる（い）樹林が広がっています。特に（う）は木材生産高が全国第1位となっており、国が持っている国有林が多いのも特徴です。

また、④森林は人間の生活や活動にも役立っていることが多く、保安林として国が保護しているものもあります。森林面積は広いのですが、残念ながら⑤現在では日本の林業はさかんではありません。地形が険しく、急な斜面が多いため開発が困難なもの理由の一つです。それにともない、木材を運び出すための林道の整備も遅れているのです。

問1. 文中の（あ）にあてはまる語句を、次のア～エから1つ選びなさい。

ア. 4分の1 イ. 3分の1 ウ. 3分の2 エ. 5分の2

問2. 文中の（い）・（う）にあてはまる語句をそれぞれ答えなさい。なお、（い）は漢字2字で、（う）は都道府県名を漢字で答えること。

問3. 下線部①について、その理由を日本の気候と国土の特徴から説明した場合、以下のような文章になります。空らんⅠ、Ⅱを文章で答えなさい。

日本の気候は が多く、国土は ため。

問4. 天然の三大美林として下線部②が有名な県名を漢字で答えなさい。

問5. 下線部③について、以下の問いに答えなさい。

(1) 世界最大級の下線部③の原生林げんせいりんが広がっている世界自然遺産の名称を漢字で答えなさい。

(2) 同じく世界自然遺産に登録されている縄文すぎで有名な島の名称を、次のア～エから1つ選びなさい。

ア. 利尻島りしりとう イ. 種子島たねがしま ウ. 八丈島はちじょうしま エ. 屋久島やくしま

(3) (2)は何県にありますか。県名を漢字で答えなさい。

問6. 下線部④について述べた文として、誤っているものを、次のア～オからすべて選びなさい。

ア. 二酸化炭素きょうきゅうを供給し、きれいな空気をつくる。

イ. 河川かせんに養分ようぶんをあたえ、魚介類ぎょかいりいが豊富になる。

ウ. 雨水を地中にたくわえ、一気に川に流していく。

エ. 風、砂、雪などから人間の生活を守る。

オ. 楽しいレクリエーションの場となっている。

問7. 下線部⑤の理由について、次のグラフⅠ・Ⅱを参考にして説明しなさい。その際、下の2つの語句を使い、本文に書かれている内容以外についてまとめること。


語句 [高齢化 価格]

グラフⅠ 国産材と輸入材の割合



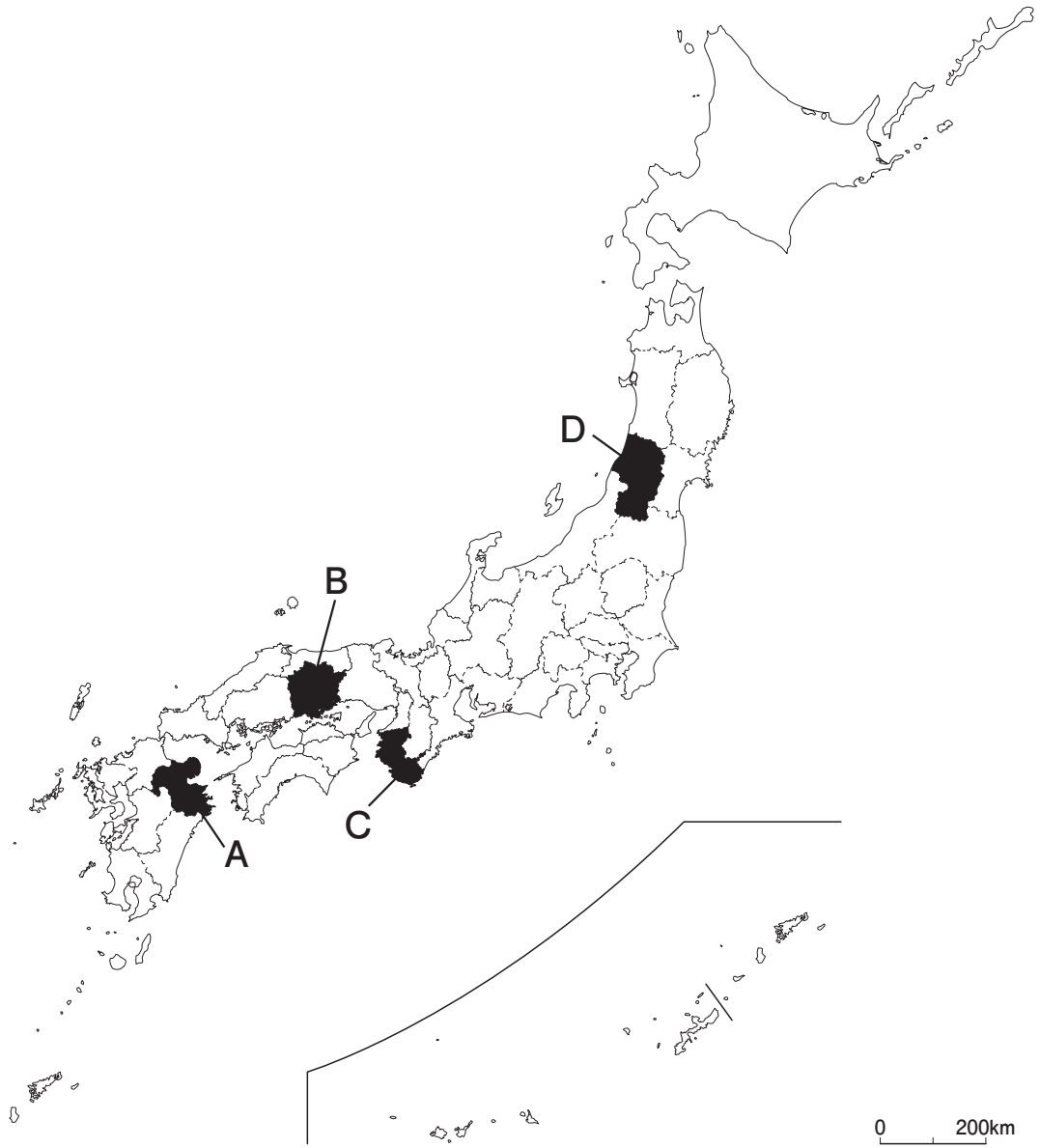
小学校の教科書より

グラフⅡ 日本の林業で働く人の数の移り変わり



小学校の教科書より

問8. 昔から「木の国」と呼ばれ、他の地域とくらべると林業がさかんだったところを、次の地図中のA～Dから1つ選びなさい。



問9. 次のグラフⅢ・Ⅳと、そのグラフについてまとめた説明文について、以下の問いに答えなさい。

グラフⅢ 農林水産業における若年者率の推移



農林水産省ホームページより

グラフⅣ (え) 県における林業就業者数と平均年齢の推移



農林水産省ホームページより

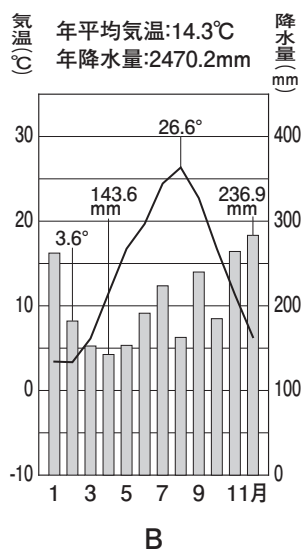
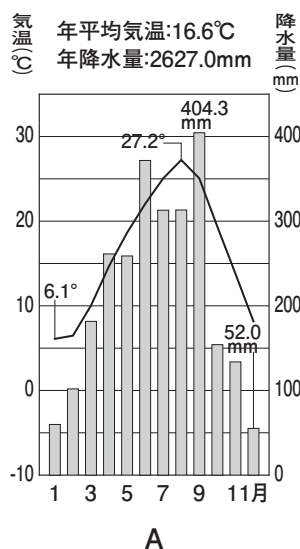
説明文

上のグラフⅢ・Ⅳからは、林業の新たな傾向^{けいこう}がわかります。その傾向を文章で表すと、

35歳未満の若い人が林業の仕事に就く割合は、すべての農林水産業の仕事に就く人の割合にくらべると、上昇傾向となっている。また、一部の地域では、林業の仕事に就く人が増加するとともに、そのなかには若者もふくまれるので、平均年齢が低下している。

と、いえるでしょう。その地域の代表例である（ え ）県では、グラフⅣを見ると平成 19 年以降、それまでの減少傾向から、増加傾向に変化していることがわかります。また、（ え ）県は、全国一の森林面積率をほこっており、県東部の馬路村魚梁瀬地区にはわが国を代表するすぎの天然林が広がっています。この地域の豊かな森林からは、最後の清流といわれる四万十川などが流れ出ています。また昨年（2013 年）の夏、この流域の四万十市では最高気温 41.0 度を記録しました。（ え ）県では、新しく仕事に就きたい人への宣伝活動や、「（ お ）の雇用」事業の実施などで、林業の仕事をする若者が増えています。

- (1) 次のグラフ A・B のどちらかは、説明文中の（ え ）県の県庁所在地の気温と降水量を表しています。これらのグラフについて述べた文として正しいものを、次のア～エから 1 つ選びなさい。



- ア. 夏が暑く、冬も黒潮の影響を受けて温暖であることから、A は高知のグラフである。
- イ. 全国でも有数の雨の多い地域で温暖でもあることから、A は和歌山のグラフである。
- ウ. 季節風の影響で冬に雪が多く、黒潮の影響もあり一年を通して温暖であることから、B は高知のグラフである。
- エ. 一年を通して雨が多いが、とくに冬の降水量が多いことから、B は和歌山のグラフである。

(2) 説明文中の「(お) の雇用」とは、林業の仕事に新たに就きたいと望んでいる労働者を支援する制度の総称そうしょうです。(お) には、環境や森林などをイメージする色の名称が入ります。脱原発だっげんぱつなどの市民運動を進める団体名としても、世界的に使われている (お) にあてはまる色の名称を、漢字1字で答えなさい。

【このページに問題はありません】

2 次の文章をよく読んで、下の問いに答えなさい。

わたしたちの祖先はいつ頃から自分たちの国のことを「日本」、自分たちの国の君主のことを「天皇」とよぶようになったのでしょうか。国づくりがはじめられたころには、「日本」という国号や「天皇」という称号はありませんでした。

① 3世紀後半から4世紀にヤマト政権による国づくりがすすむと、自分たちの国を「ヤマト」とよぶようになりました。そしてヤマト政権の支配者のことを「大王」と呼びました。一方、中国や朝鮮では古くから日本を「倭」と呼びました。ヤマト政権の代表者は、中国の皇帝にみつぎ物をおくるのとひきかえに、5世紀の「倭の五王」のように、中国から「倭国王」の地位を与えられました。

7世紀初めから日本は中国の制度や文化をとり入れるために中国に②使者や留学生をおくりました。中国の歴史書には、X中国の皇帝に対して③日本の使者が④自分たちの代表者のことを「日の出る国の天子」と呼んだことが書かれています。また日本の歴史書にも、8世紀の初めに Y中国を訪れた日本の使者が、中国が「大倭国」の使者として扱ったのに対して、「日本国の使者」を主張した、という記述があります。「倭」という字には「背が丸く曲がって低い人」という意味があるため、日本は中国に対して自分たちを「倭」と表すことを避けるようになっていました。これを受けて中国も日本との交流がすすむなかで「日本」という国号を使うようになりました。2004年に中国の西安で発見された井真成という日本人留学生の墓石に「日本」という国号が刻まれていて話題になりました。この墓石がつくられたのは8世紀の前半です。

この間に日本国内では、645年に蘇我入鹿が暗殺された後、中国の制度や文化をとりいれながら、(あ)といわれる朝廷を中心とする国づくりが本格的にすすめられました。7世紀の後半に(い)の乱といわれる大王の位をめぐって⑤大きな戦いがおこりました。この戦いの後に大王の地位が高まり「大王は神である」という考え方も出てきました。このころに「天皇」という称号が使われるようになったと考えられています。「日本」の国号や「天皇」の称号は、7世紀に中国と交流しながら国づくりをすすめていくなかで成立したのです。

問1. 下線部①の時期の日本の政治の様子について述べた文として正しいものを、次のア～エから1つ選びなさい。

- ア. 仏教の教えなどをとりいれた役人の心得^{こころえ}をしめした憲法^{せいてい}を制定したり、家
がらにとらわれず、才能のある人を朝廷の役人にとりたてるようにした。
- イ. 貴族や仏教寺院^{せいりよく}の勢力あらずもたえなかったので、都を現在の京都に移
して政治の立て直し^{なお}をはかった。
- ウ. 各地でききんが起こったり、伝染病^{でんせんびょう}が広がったり、貴族や僧の勢力あらず
いがおこったので、仏教の力で国をまもろうとして各地に寺^{こんりゅう}を建立した。
- エ. 朝廷は豪族^{こうぞく}の集団である氏^{うじ}に姓^{かばね}をあたえて中央や地方の政治をまかせ、朝
廷にみつぎ物を出させた。

問2. 下線部②にあてはまらない人物を、次のア～エから1つ選びなさい。

- ア. 鑑真^{がんじん} イ. 阿倍仲麻呂^{あべのなかまろ} ウ. 空海^{くうかい} エ. 山上憶良^{やまのうえのおくら}

問3. 波線 X と Y にあてはまる中国の王朝名の組合せとして正しいものを、次のア～カから1つ選びなさい。

- ア. X - 宋 Y - 元 イ. X - 隋 Y - 明
ウ. X - 明 Y - 清 エ. X - 清 Y - 宋
オ. X - 唐 Y - 宋 カ. X - 隋 Y - 唐

問4. 下線部③について、以下の問いに答えなさい。

(1) 日本の代表として中国に渡った人物を漢字で答えなさい。

(2) 下線部③はこの時に、「日の出る国の天子が、日の沈む^{しず}国の天子に手紙をお
くります」という挨拶文^{あいさつ}が書かれた手紙を中国の皇帝に渡しました。これを読
んだ中国の皇帝は不機嫌^{ふきげん}になりました。なぜ中国の皇帝は不機嫌になったので
すか、本文をよく読んでそれまでの中国と日本の関係もふまえて説明しなさい。

問5. 下線部④の人物を、次のア～エから1つ選びなさい。

ア. 推古^{すいこ}天皇 イ. 雄略^{ゆうりやく}天皇 ウ. 仁徳^{にんとく}天皇 エ. 聖武^{しょうむ}天皇

問6. 文中の（ あ ）にあてはまる語句を答えなさい。

問7. 文中の（ い ）にあてはまる語句を、次のア～エから1つ選びなさい。

ア. 保元^{ほうげん} イ. 壬申^{じんしん} ウ. 平治^{へいじ} エ. 応仁^{おうにん}

問8. 下線部⑤について、以下の問いに答えなさい。

(1) 下線部⑤に勝利して大王の位についた人物を天皇の名前で答えなさい。

(2) (1)の人物の時代に書かれた、「天皇」の文字が記された日本で最も古い文章が、1998年に発見されました。この文字は紙に書かれたものではありませんでした。この文章にもあてはまりますが、当時は何に文章を書くことが多かったでしょうか。次のア～エから1つ選びなさい。

ア. 布 イ. 粘土^{ねんど} ウ. 木・竹 エ. 動物の毛皮

【このページに問題はありません】

3 次の A～E は、日本の歴史に関する記念日です。この記念日について、下の問いに答えなさい。

- | | | |
|----------|-------------|---------|
| A. 2月11日 | B. 5月3日 | C. 8月6日 |
| D. 8月15日 | E. 10月第二月曜日 | |

問1. Aは「建国記念の日」です。1889年のこの日に大日本帝国憲法が^{はっふ}発布されました。現在の日本国憲法は国民が自ら定めた憲法とされるのに対して、大日本帝国憲法はどのように発布されましたか。次の文中の空らんⅠにあてはまる語句と、空らんⅡにあてはまる文章を、下の資料を参考にして答えなさい。

Ⅰ が、 Ⅱ かたちで公布された。

※ 省略

大日本帝国憲法発布式典の絵画

※ 腰をかがめている黒田^{くろだきよたか}清隆は、この時の総理大臣です。

問2. Bは、「憲法記念日」です。現在の日本国憲法についてどのようなことが起きた日ですか。次のア～エから1つ選びなさい。

- ア. 日本国憲法を一般国民に知らせ、発表した日。
- イ. 日本国憲法を実施し、^{こうりょく}効力を持たせた日。
- ウ. 日本国憲法を天皇が認めた日。
- エ. 日本国憲法が完成し、アメリカを中心とする^{せんりやうぐん}占領軍の^{きよか}許可を得た日。

問3. Cは広島に原爆が投下された日です。それについて、次の年表を参考にして以下の問いに答えなさい。

年表

月 日	1945年の出来事
4月1日	アメリカが沖縄本島に上陸する
8月6日	アメリカが広島に原子爆弾を投下する
8月8日	ソ連が日本に宣戦布告する
8月9日	アメリカが長崎に原子爆弾を投下する
8月15日	日本国民が終戦を知らされる

- (1) アメリカは早くに戦争を終わらせる必要がありました。なぜアメリカは広島だけでなく長崎にも原子爆弾を投下したのですか、その理由を上年の年表を参考にして説明しなさい。
- (2) 下の文章は、長崎について説明しています。文中の①～④の下線部のなから、誤っているものを1つ選びなさい。

長崎は江戸時代、海外の文物や情報を取り入れる窓口として、大きな役割を果たしてきました。徳川家康の時代には、海外に出かける貿易船に①朱印状を与えて保護しました。その結果海外との交流がさかんになり、キリスト教が国内に広がりました。それを危機的に思った幕府は1613年に全国にキリスト教禁止令を出しました。

2代将軍秀忠のころからは貿易の取り締まりを強め、②3代将軍吉宗の時代には3度にわたる鎖国令を出しました。それにより日本人の海外への出入りが禁止され、これまで日本を訪れていたスペイン船の来航も禁止されてしまいました。このような動きに対して、1637年に③天草四郎時貞を頭とした一揆が起きました。以後、幕府は踏絵などでキリスト教を厳しく取り締まり、1639年にポルトガル船の来航を禁止し、1641年にオランダ商館を長崎の出島へ移動させることで、鎖国が完成しました。しかし鎖国体制下では、例外的に④オランダと中国だけが長崎で貿易を行なうことが許されたのです。

(3) 次の写真は、広島平和記念資料館東館

1階ロビーにある地球平和監視時計です。

上段に原爆投下から現在までの日数と、
下段に最後の核実験から現在までの日数
が表示されています。核実験が強行され
たら、下段の日数を「00000」にするゼロ・
リセットを行い、広島からの抗議のメッ
セージを世界に示しています。最後に下段
の日数がゼロ・リセットされたのは、ど
この国の核実験によると考えられますか、
下のア～エから1つ選びなさい。

※ 省略

平和時計の写真

ア. 韓国 イ. シリア ウ. イラク エ. 北朝鮮

問4. Dは、日本が1945年に、〇〇〇〇宣言を受け入れたことを国民に知らせた日
です。その宣言について、以下の問いに答えなさい。

(1) 〇〇〇〇には、第二次世界大戦中に日本と同盟を結んでいた国にある都
市の名称が入ります。その国名を次のア～エから1つ選びなさい。

ア. イギリス イ. ドイツ ウ. イタリア エ. フランス

(2) その宣言を受け入れたことを、誰がどのような方法で国民に知らせまし
たか。「〔Ⅲ〕が、〔Ⅳ〕で国民に知らせた」という文章の空らんⅢ、
Ⅳにあてはまる語句を答えなさい。

問5. Eは、東京オリンピックの開催を記念して制定された日です。現在では何と
よばれている日ですか。次のア～エから1つ選びなさい。

ア. 体育の日 イ. 海の日 ウ. 成人の日 エ. 秋分の日

- 4 次の文章は、政治学を専門とする著者が、（ あ ）について書いたものです。よく読んで、下の問いに答えなさい。問題文中の（ ）は本文中の（ ）と同じです。（文章には一部ふりがなと注をつけています。）

※ 省略

参議院についての文章

佐々木 毅^{たけし} 『民主主義という不思議な仕組み』 ちくまプリマー新書より

問1. 下線部①について、以下の問いに答えなさい。

(1) 下線部①について述べた文として誤っているものを、次のア～エから1つ選びなさい。

- ア. 衆議院議員の総選挙から30日以内に開かれる国会を特別国会という。
- イ. 衆議院の（ い ）の日から40日以内に衆議院議員の総選挙が行われなければならない。
- ウ. 国会の召集^{しょうしゅう}は天皇の国事行為^{こくじ}となっている。
- エ. 通常国会とは毎年2回召集されるもので、会期は120日間となっている。

(2) 下線部①のはたす仕事として誤っているものを、次のア～オから2つ選びなさい。

- ア. 条約を承認する。
- イ. 最高裁判所の長官を指名する。
- ウ. 天皇の国事行為^{こくじ}に対して、助言^{じょげん}と承認を与える。
- エ. 弾劾^{だんがい}裁判を行う。
- オ. 予算を議決し、決算を承認する。

問2. 次の文章は、下線部②について説明したものです。空らん（ え ）にあてはまる語句を漢字4字で答えなさい。

衆議院議員の総選挙は、小選挙区制と（ え ）制を組み合わせた小選挙区（ え ）^{へいりつ}制がとられています。480名^(注)の定数のうち、（ え ）制で180名を選びます。一方、（ あ ）の選挙は、定数242名のうち、各都道府県を1単位とする選挙区から146名を選び、残りの96名を（ え ）制で選出します。

(注) 2013年以降実施の衆議院議員総選挙から475名となる。

問3. 文中の空らん《 A 》にあてはまる数字として正しいものを、次のア～エから1つ選びなさい。

ア. 一 イ. 三 ウ. 五 エ. 七

問4. 下線部③について、マスコミなどで一般的に使われている本来の「ねじれ」の意味は、著者が述べているものとは少し違っています。一般的に、国会における「ねじれ」現象とはどのような状況をいうのでしょうか。以下の新聞記事と短文を参考にして、説明しなさい。

新聞記事

(中略)	編集手帳 選挙は野球に似ている。負けるには負けるだけの理由がある。野村克也さんの座右の戒めを借りれば、入勝ちに不思議の勝ちあり。負けに不思議の負けなし。3年余の政権運営を顧みて、民主党の惨敗は不思議ではない	(中略)
(以下省略)	こちらは自民党にあてはまる◆5年前に「首相失格」の烙印を押された人を総大将に戴いて、なんぼなんでも勝ちすぎだろう。	自民党は野球で言うと、表の攻撃で得点したにすぎない。しかも敵失である。裏の守備、すなわち来年夏の(※※)でしくじれば、ねじれ国会はさらにつづく。

2012.12.17

※文中の(※※)は問題の都合上、空らんとしています。

2012年12月17日(月)『読売新聞』朝刊 編集手帳より

短文

- ・ この記事のコラムは2012年12月17日(月)の朝刊に載っていたもので、この選挙の結果を受けて安倍政権が誕生した。
- ・ 昨年(2013年)夏の(あ)選挙で、政権与党(自由民主党・公明党)が圧勝したので、「ねじれ」は解消された。

問5. 下線部④について、日本国憲法の改正について述べた文として誤っているものを、次のア～エから1つ選びなさい。

- ア. 憲法は国の最高法規^きなので、その改正には慎重^{しんちょう}な手続きが定められている。
- イ. 国民によって承認された後、改正された憲法は首相が天皇の名で公布^{こうふ}する。
- ウ. 国会が発議^{はつぎ}したあと、国民投票で過半数の賛成が必要である。
- エ. 議決に関して衆議院の優越はなく、両院は対等である。

問6. 文中の（ あ ）・（ い ）にあてはまる語句をそれぞれ漢字で答えなさい。

【これより後に問題はありません】

