

平成 26 年度

入学試験 問題 (第 1 回)

社 会

2 月 1 日 (土)

配布用

「※ 省略」の部分に記載されている写真・地図・表・グラフなどは、著作権上の問題からこの冊子には掲載することができませんので、ご了承願います。

—注意事項—

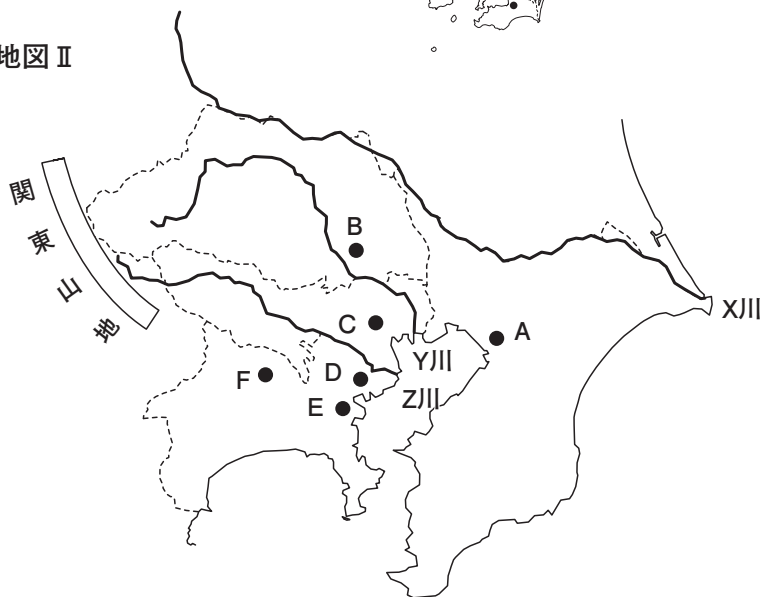
1. 問題冊子は 17 ページまであります。
2. 指示があるまで、この冊子を開いてはいけません。
3. ページが抜けていたり、印刷が見えにくい場合には、手をあげて知らせてください。
4. 試験時間は 40 分です。
5. 答えはすべて、問題の指示にしたがって解答用紙に記入しなさい。

1 以下の地図を参考にしながら、次のページの文章をよく読んで、あとの問いに答えなさい。

地図Ⅰ



地図Ⅱ



都市人口の国内順位

A	14位
B	10位
C	1位
D	8位
E	2位
F	20位

地図Ⅲ



G	9位
H	3位
I	15位
J	6位

順位の表は、平成24年度都市別人口（総務省資料）をもとに作成

地図Ⅰは人口上位21都市を示したもので、一つを除いて政令指定都市を表しています。中心となる都市に通勤や通学している人がくらしている地域をその都市の都市圏とよびますが、日本の都市圏でとくに大きいものが東京、大阪、(あ)の三大都市圏です。これらの三都市から50km以内の都市圏に①日本の人口の約45%がくらしています。(あ)は中部地方にある国内第4位の人口をもつ市です。

地図Ⅱは関東地方の一部を表したものです。A～Fは地図Ⅰに示された都市と同じもので、一つを除いて政令指定都市を表しています。東京の霞が関・永田町・丸の内周辺を都心といい、政治や経済の中心地となっています。人口が集中し都市問題が生じてくると、郊外に②大規模な住宅地がつくられました。日本で最も人口が集中している東京大都市圏は、日本最大の関東平野に広がっています。平野の西側にある関東山地は都市にくらす人々の生活や産業に必要な水を供給する水源地としての役割を担っています。

東京都の生活用水は、1960年代の始めまで、その約8割が小河内ダムなどがある(い)川の水でまかなわれていました。(い)川は、江戸時代に江戸の飲料水を確保するために上流から用水を引く工事が行われていました。しかし、1960年代の後半に、東京大都市圏に水を供給する目的で、矢木沢ダムや下久保ダムなどの大規模なダムが(う)川の上流に建設されました。現在、東京都に供給される水は、(う)川と荒川の二つの水系で約8割をしめていて、(い)川の水も今なお東京都の一部で生活用水として利用されています。また、③関東地方の農業は、九州地方に次ぐ生産額をあげています。火山灰が積もってできた(え)層におおわれた台地では畑作を、川沿いの低地では稲作を行っています。

地図Ⅲは近畿地方の一部を表したものです。G～Jは地図Ⅰに示された都市と同じもので、すべて政令指定都市を表しています。大阪大都市圏内の(お)市では、昔は地下水が使われていました。しかし明治時代に琵琶湖から水道を引く琵琶湖疏水が完成し、現在はその水が上水道に利用されています。大阪市は琵琶湖から流れ出た、地図Ⅲ中の(か)川の水が利用されています。琵琶湖の水は飲用水だけでなく農業用水や阪神工業地帯の工業用水としても使われていて、近畿地方の人々や産業を支えることから、「近畿地方の水がめ」とよばれています。

問1. 文中の（ あ ）市が位置する都道府県名を漢字で答えなさい。

問2. 文中の（ い ）・（ う ）にあてはまる川を、地図Ⅱ中のX～Zからそれぞれ選びなさい。

問3. 文中の（ え ）にあてはまる語句を答えなさい。

問4. 文中の（ お ）にあてはまる都市を、地図Ⅲ中のG～Jから1つ選びなさい。

問5. 文中の（ か ）にあてはまる語句を漢字で答えなさい。

問6. 下線部①のおよその人数を、次のア～エから1つ選びなさい。

ア. 2000万人 イ. 4000万人 ウ. 6000万人 エ. 8000万人

問7. 東京都の多摩、神奈川県の港北、千葉県の成田などにみられる計画的に建設された下線部②を何といいますか。

問8. 下のグラフを見ると、下線部③には全国と比較して生産額の割合が高い品目ひんもくがあります。その品目をあげるとともに、その品目が高い理由を「消費地」の語句を用いて説明しなさい。

農業生産額の品目別割合 （数字は%を表す）

関東1.6兆円	19.1	41.2	4.1	27.5	8.1
	稲	野菜	果実	畜産	その他
全国8.5兆円	22.5	27.3	8.8	30.5	10.9

『生産農業所得統計』（平成20年）より作成

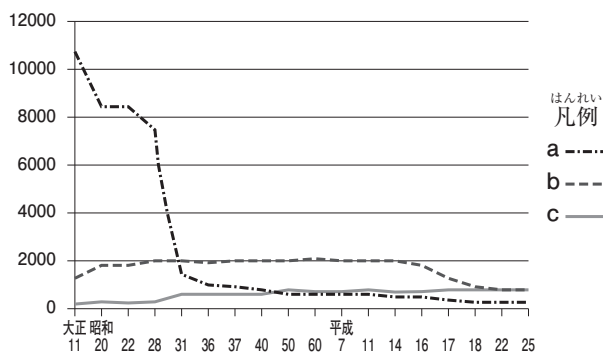
問9. 政令指定都市に関して、以下の問いに答えなさい。

- (1) 地図Ⅰに表された政令指定都市のなかで、都道府県庁が置かれている都市よりも人口が多い都市があります。その都市名を漢字で答えなさい。
- (2) 地図Ⅱのなかで政令指定都市以外のものを、A～Fから1つ選びなさい。
- (3) 2001年に、浦和市・大宮市・与野市が合併してできた市の名称をひらがなで答えなさい。
- (4) 政令指定都市について説明した文として誤っているものを、次のア～エから1つ選びなさい。

- ア. 政令指定都市には区が設けられている。
- イ. 都道府県なみの権限をもつ。
- ウ. 人口はすべて100万人以上である。
- エ. 四国地方に政令指定都市はない。

問10. 市町村合併について、以下の問いに答えなさい。

- (1) 右のグラフは市町村数の変化を表しています。グラフ中のa・b・cにあてはまる語句の組み合わせとして正しいものを、下のア～カから1つ選びなさい。



総務省資料より作成

- ア. a - 市 b - 町 c - 村
- イ. a - 市 b - 村 c - 町
- ウ. a - 町 b - 市 c - 村
- エ. a - 町 b - 村 c - 市
- オ. a - 村 b - 市 c - 町
- カ. a - 村 b - 町 c - 市

(2) 市町村合併による効果について説明した文として誤っているものを、次のア～エから1つ選びなさい。

ア. 合併前の市町村では設置できなかった施設をつくることができる。

イ. 財政規模が大きくなるので、多様化・高度化する住民の要望に応えられる。

ウ. 職員数を大幅に増やすことで、国民に働く場を提供することができる。

エ. 人口、財政力、政治能力が増し、国から市町村に多くの権限が移される。

【このページに問題はありません】

2 次の A 子さんの日記をよく読んで、下の問いに答えなさい。

8月13日 晴れ

今日から家族で楽しみにしていた金沢旅行だった。金沢駅に着いたら、おじいちゃんとおばあちゃんが迎え^{むか}に来てくれていた。今日は金沢の家でおいしいご飯を食べながら、おじいちゃんが昔の金沢の話をしてくれた。私は歴史が好きだから、(あ) の①一向一揆について説明したら、おばあちゃんがとても褒^ほめてくれた。明日は金沢城跡^{あと}に連れて行ってもらうことになった。

8月14日 曇り

今日はみんなで前田氏が城主をつとめた金沢城跡に行った。安土桃山時代に織田信長の後^つを継いで天下を統一した(い) と幼い頃から交流があった前田利家^{としいえ}が金沢城に入城したようだ。かつて②大名たちは、1年おきに自分の支配する国と江戸を行き来するように定められていたが、金沢城からは4000人もの人が行列に参加したそうだ。次に、武家屋敷が残っている長町^{ながまち}に行った。そこには(う) 資料館などがあり、今も昔の姿が残っていて、まるで江戸時代に迷い込んだような気分になった。

8月15日 晴れ

最終日には、早朝^{けんろくえん}に兼六園にいった。緑が気持ちよかった。その後、金沢21世紀美術館にも行って、独創^{どくそうてき}的な現代美術を見た。近くに金沢能楽^{のうがく}美術館があり、そこで生^{なま}の③能をみることができた。お土産屋^{みやげ}をみていると、金沢には、能楽以外にも(あ) 友禅^{ゆうぜん}や九谷焼^{くたにやき}、金箔細工^{きんぱくざいく}などの伝統工芸品がたくさんあることが分かった。④なぜ文化が栄えたのか、疑問に思ったのでおじいちゃんに聞いてみたら、詳しく教えてくれた。金沢についてたくさん学べた、楽しい旅行だった。

問1. 文中の(あ) には、旧国名が入ります。(あ) に当てはまる語句を漢字で答えなさい。

問2. 下線部①について、一向宗は浄土真宗とも呼ばれます。この宗派をひらいた人物として正しいものを、次のア～エから1つ選びなさい。

ア. ほうねん 法然

イ. にちれん 日蓮

ウ. しんらん 親鸞

エ. どうげん 道元

問3. 下の絵を参考にしながら、下線部②を漢字4字で答えなさい。



問4. 文中の（ い ）にあてはまる人物の名前を漢字で答えなさい。

問5. 文中の（ う ）には、ながしの長篠の戦いで活躍した身分の低い武士の名称が入ります。この武士の名称を次の絵を参考にして、下のア～エから1つ選びなさい。



ア. 足軽

イ. 旗本

ウ. 大名

エ. 御家人

問6. 下線部③について、室町幕府の将軍足利義満よしみつの保護を受けたある人物が能を高度な芸術にまで高めました。その人物として正しいものを次のア～エから1つ選びなさい。

- ア. 出雲いずもの阿国おくに イ. 世阿弥ぜあみ ウ. 吉田兼好よしだけんこう エ. 松尾芭蕉まつおぼしろう

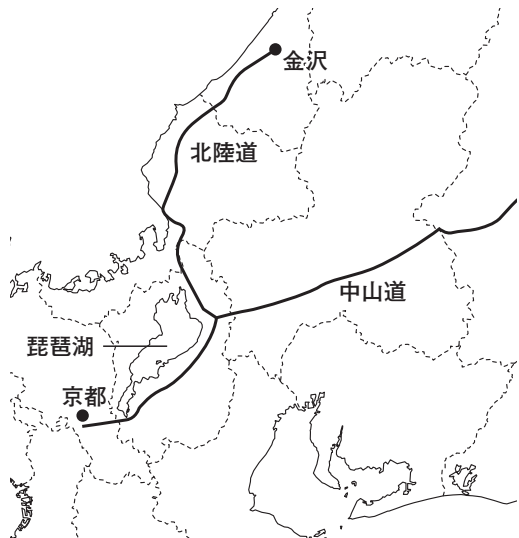
問7. 下線部④について、金沢は江戸時代から文学や芸術の栄えた文化都市としても有名です。なぜ文化が栄えるようになったのでしょうか。資料1～3から読み取れることを説明しなさい。

資料1

順位	藩主	石高 (万)
1	前田氏	103
2	島津氏 <small>しまづ</small>	73
3	尾張徳川氏 <small>おわり</small>	62
4	伊達氏 <small>だて</small>	56

『最新日本史図表』第一学習社より作成

資料2



資料3

※ 省略

加賀前田家三代藩主の前田利常としつねについての文章

若林喜三郎『前田綱紀』吉川弘文館より

3 次の文章をよく読んで、下の問いに答えなさい。

私たちが学んでいる日本の歴史は、日本列島のすべての地域において一様に進んできたものではありません。四季の変化、自然環境の^{ちが}違いなどによって、日本列島の各地に独特の文化が生まれ、それが地域差となって日本の歴史に大きな影響を与えてきました。特に歴史上、①東国、西国と表現されるように、東日本と西日本では歴史や文化に大きな^{ちが}違いがみられます。それではいくつかその具体例をあげてみましょう。

古代では、紀元前4世紀頃、中国や朝鮮半島から九州北部に伝わった稲作と金属器の使用を中心とする②弥生文化は、関東地方や東北地方に広く伝わるのに年月がかかったといわれます。それは関東・東北地方に豊かな森林が広がり、その森林が^{はぐく}育んだ③縄文文化が存在していたからだといわれています。

④中世では、平安時代初期、東北地方は完全には朝廷の支配下に入っていませんでした。東北地方には（あ）と呼ばれる住民がいて、朝廷に抵抗していたからです。そこで朝廷は坂上田村麻呂を征夷大將軍として派遣し、支配領域を広げていったのです。

⑤近世では、江戸時代後期、外国の船が日本近海に現れ、海岸線を守ることを強く感じていた西南の^{せいなん}諸藩が、イギリスやフランスと一戦を^{まじ}交え、敗れることで日本の遅れを知り、倒幕運動の大きな勢力となりました。

このように日本各地には多様な文化や地域性が存在し、それらが歴史を大きく動かし、歴史に^{いろど}彩りを与えてきたのです。

問1. 文中の（あ）にあてはまる語句を、ひらがな3字で答えなさい。

問2. 下線部①について、以下の問いに答えなさい。

- (1) 次の文は東国と西国の交通の特徴を説明したものです。「東国」の語句が入るのは文中の（い）、（う）のどちらですか。

おだやかな海の水運を利用して重い年貢米を運ぶことができた（い）に対し、（う）では山道が多く、人馬を用いて年貢を都へ運ばなければならなかった。

- (2) 次の文は西国のある有名な役所について書かれたものです。文中の(え) にあてはまる役所の名称を漢字で答えなさい。

平安時代の中期、菅原道真^{すがわらのみちざね}は藤原氏によって(え) へ流された。
また、藤原純友^{ふじわらのすみとも}は海賊とともに反乱をおこし、(え) をおそった。

- 問3. 下線部②の遺跡として誤っているものを、次のア～エから2つ選びなさい。

ア. 吉野ケ里遺跡 イ. 登呂遺跡 ウ. 三内丸山遺跡 エ. 岩宿遺跡

- 問4. 下線部③が広がった時代では、西日本にくらべて東日本の方が多くの人々が住んでいました。その理由について、下の図と本文の内容を参考にして説明しなさい。

縄文時代中期の人口

※ 省略

鬼頭宏『人口から読む日本の歴史』講談社学術文庫より

問5. 下線部④について、次の2つの地図A・B中の黒い部分は、平安時代に荘園の年貢としておもに「絹・布・綿・糸」が都へおさめられた地域と、おもに「米」が都へおさめられた地域を表しています。おもに「米」がおさめられた地域は地図A・Bのどちらですか。

地図A



地図B



『高校日本史』山川出版社より

問6. 下線部⑤について、以下の問いに答えなさい。

- (1) 東国の政治の中心都市は「将軍のお^{ひざもと}藤元」と呼ばれましたが、西国の経済の中心都市は何と呼ばれましたか。漢字とひらがなを使って5字で答えなさい。
- (2) この時代、東国と西国では異なった貨幣が使われていました。東国と西国で使われていた貨幣の原料を、下の地名を参考にそれぞれ漢字1字で答えなさい。

いわみ (島根県)

かい (山梨県)

さど (新潟県)

いくの (兵庫県)

- 4 下の各文は大妻多摩中学校のOさんが、現代社会のあるテーマについて授業を受け、その内容をまとめたノートの一部です。文を読んで、あとの問いに答えなさい。

今までの状況と問題点

- ・住民に対する行政サービスは国よりも地方の方がきめ細かく対応できるはずだ。
- ・例えば道路建設など国の出先機関がやる仕事と同じような仕事を地方もやっており、ムダが多い。これを①二重行政という。
- ・地方が政府から補助金をもらって公共事業・行政サービスを行っているのはおかしい。地方は政府の②いいなりになってしまう。

実現へ向けての対策

- ・権限移譲（けんげん いじょう）けんげん いじょう といって、都市計画からお年寄りや障害者の福祉などもっと地方に行政を任せるべきである。
- ・税源移譲（ぜいげん いじょう）ぜいげん いじょう といって、もっと地方に税金を渡し、地方が自由に使えるお金を増やすべきである。
- ・道州制の導入、市町村合併などを進めて、地方が行政の力を高め、ムダを省く。がっぺい はぶ

今後の課題

- ・地方は自主財源の確保に迫られる。せま
- ・行政の専門知識を持った官僚が大勢いるわけではないので、地方が税金を浪費したり、③地方の運営に失敗してしまうのでないか。かんりょう おおぜい ろう
- ・「八百長議会」といわれたように④地方議会において議員の質問と知事の答弁があらかじめ分かっている、真剣な議論がなされない場合もある。や おちよう とう

※文中の地方とは地方公共団体のことです。

問1. 下線部①について、次の文を読み、文中の（ あ ）にあてはまる語句を入れなさい。

- ・ 大阪市の橋下市長は大阪（ あ ）構想を掲げて、大阪府と大阪市の行政のムダを解消しようと考えた。

問2. 下線部②について、最近では次の文のように地方公共団体の長が政府のいいなりにはならず、はっきりと意見を表明する例がみられます。文中の（ い ）にあてはまる語句を、次のア～エから1つ選びなさい。

- ・ 沖縄県の仲井真知事は過去に何度か墜落事故をおこしている新型輸送機オスプレイを、住宅密集地にある（ い ）基地に配備することは危険であるとして反対した。

ア. 普天間 イ. 辺野古 ウ. 嘉手納 エ. 名護

問3. 下線部③について、以下の問いに答えなさい。

- (1) かつて炭鉱の都市として有名だったが、2006年に財政破綻したメロンの栽培で有名な北海道の市を答えなさい。
- (2) 下線部③の内容として誤っているものを、次のア～オから1つ選びなさい。

- ア. 空港を建設して人と物の流れを呼び込もうとしている。
- イ. 「くまモン」などのご当地キャラクターをつくり、宣伝している。
- ウ. 「味の素スタジアム」のように施設の命名権を企業に売り、利益をあげている。
- エ. テーマパーク、リゾート施設を建設して利益をあげている。
- オ. 新幹線や高速道路の建設を認め、物流や交通の整備を図っている。

問4. 下線部④について述べた文として正しいものを、次のア～オから2つ選びなさい。

- ア. 都道府県議会は二院制だが、市町村議会は一院制である。
- イ. 住民は議会を解散することを請求できる。
- ウ. 市町村長と都道府県知事を幹事長と呼ぶ。
- エ. 議員は住民の直接選挙で選ばれ、被選挙権は満25歳以上である。
- オ. 地方議会は政令を制定、または廃止することができる。

問5. 地方公共団体との連絡や指導にあたる政府の機関（省）として正しいものを、次のア～エから1つ選びなさい。

- ア. 環境省
- イ. 国土交通省
- ウ. 総務省
- エ. 経済産業省

問6. 次の文章は授業のまとめをOさんが書き取ったものです。よく読んで、以下の問いに答えなさい。

日本は戦後復興や高度経済成長をへて豊かな国になった。政府が中心となって地方をリードしてきた中央（う）体制で成功してきた国である。だから今まで地方の財源の多くは国から配分され、地方の仕事も国の仕事を肩代わりしてやってきたことが多い。この一方的な国と地方のあり方のことを「3割（え）」といたりもした。

しかし、今は国の借金が（A）兆円もあり、地方は国に多くのことを期待することができなくなった。そこで、住民の側にあり、住民の意見を充分に聞くことができる地方がその役割をふやし、行政の中心になるべきだと考えられている。

(1) 文中の（う）、（え）にあてはまる語句の組み合わせとして正しいものを、次のア～エから1つ選びなさい。

- ア. う－集中 え－政治 イ. う－一極 え－税制
- ウ. う－指導 え－財政 エ. う－集権 え－自治

(2) 文中の (A) と下の新聞記事の (A) には同じ数字が入ります。
新聞資料の波線部を参考にして、次のア～エから1つ選んで入れなさい。

ア. 1000

イ. 100

ウ. 10

エ. 1

新聞記事

国の借金(A)兆円突破

財務省は9日、国の借金残高が6月末で(※※)兆6281億円になり、初めて(A)兆円の大台を超えたと発表した。年間の国内総生産(GDP)のほぼ2倍に達し、国民1人あたり約800万円の借金を抱えている計算になる。

2013年8月10日(土)『朝日新聞』朝刊より

問7. この授業のテーマとして最もふさわしいものを、次のア～エから1つ選びなさい。

ア. 税制改革

イ. 地方分権

ウ. 社会福祉

エ. 情報公開

5 現在、日本国内では「国際化が大切である」と学校でも教えられています。国際化は大切なことですが、実際には、外国語が得意で話せることができればそれが国際化であると思ってしまう人も多いようです。国際化を進めるうえで大切なのは、どのようなことであると考えられますか。以下の文を参考にして説明しなさい。

- ・ 外国人 A は、自分の国のことを日本人に詳しく説明し、自分の国の文化と日本文化との比較をしようとしていた。
- ・ 日本人 B は、発音の良し悪しや会話ができるかどうかばかり重視し、外国人 A との話は長く続かなかった。

【これより後に問題はありません】

